

# **NATIONAL ELIGIBILITY CUM ENTRANCE TEST**

**NEET (UG), 2015  
(CODE:D)**

1. In his classic experiments on pea plants, Mendel did not use
- Pod length
  - Seed shape
  - Flower position
  - Seed colour
2. Which one of the following is not applicable to RNA?
- 5' phosphoryl and 3' hydroxyl ends
  - Heterocyclic nitrogenous bases
  - Chargaff's rule
  - Complementary base pairing
- Male gametophyte in angiosperms produces:
- Single sperm and a vegetative cell
  - Single sperm and two vegetative cells
  - Three sperms
  - Two sperms and a vegetative cell
4. Which of the following are not membrane bound?
- Ribosomes
  - Lysosomes
  - Mesosomes
  - Vacuoles
- The chitinous exoskeleton of arthropods is formed by the polymerisation of:
- D-glucosamine
  - N-acetyl glucosamine
  - lipoglycans
  - keratin sulphate and chondroitin sulphate
6. Among china rose, mustard, brinjal, potato, guava, cucumber, onion and tulip, how many plants have superior ovary?
- Six
  - Three
  - Four
  - Five
7. The function of the gap junction is to:
- facilitate communication between adjoining cells by connecting the cytoplasm for rapid transfer of ions, small molecules and some large molecules.
  - separate two cells from each other.
  - stop substance from leaking across a tissue.
  - performing cementing to keep neighbouring cells together.
- 1 मटर के पौधों पर अपने आदर्श प्रयोग में मेंडल ने किसका उपयोग नहीं किया?
- फली की लम्बाई
  - बीज का आकार
  - पुष्प की स्थिति
  - बीज का रंग
- निम्नलिखित में से कौन-सा RNA पर लागू नहीं होता?
- 5' फॉस्फोरिल और 3' हाइड्रोक्सिल सिरे
  - द्विपक्षक्रीय नाइट्रोजनी बेस
  - चारगॉफ नियम
  - संपूरक बेस युग्मन
- आवृत बीजी पादपों में नर युग्मक क्या बनाता है?
- एक शुक्राणु और एक कायिक कोशिका
  - एक शुक्राणु और दो कायिक कोशिकाएँ
  - तीन शुक्राणु
  - दो शुक्राणु और एक कायिक कोशिका
4. निम्नलिखित में से कौन झिल्ली से नहीं घिरे रहते?
- राइबोसोम
  - लाइसोसोम
  - मध्यकाय (मीजोसोम)
  - रसधानियाँ
5. आर्थ्रोपोडों का काइटिन बाह्य कंकाल किसके बहुलकीकरण से बनाता है?
- D-ग्लूकोसैमिन के
  - N-एसीटिल ग्लूकोसैमिन के
  - लिपोग्लाइकैनों के
  - केराटिन सल्फेट और क्राइड्रोइडिन सल्फेट के
6. गुड़हल, सरसों, ब्रैंगन, आलू, अमरुद, खीरा, प्याज और ट्यूलीप में से कितनों में ऊर्ध्ववर्ती अण्डाशय है?
- छः
  - तीन
  - चार
  - पाँच
7. गैप - जंक्शन का कार्य है
- पड़ोसी कोशिकाओं के बीच संप्रेषण में मदद करने के लिए, कोशिकाद्रव्य को जोड़े रखने के लिए ताकि आयन, छोटे अणु और कुछ बड़े अणु तीव्र गति से स्थानांतरित हो सकें।
  - दो कोशिकाओं को एक दूसरे से पृथक रखने के लिए।
  - किसी पदार्थ को ऊतक के पार निकलने से रोकने के लिए।
  - पड़ोसी कोशिकाओं को परस्पर जोड़े रखने के लिए।

Which of the following immunoglobulins does constitute the largest percentage in human milk ?

- (1) IgM
- (2) IgA
- (3) IgG
- (4) IgD

9. In mammalian eye, the 'fovea' is the center of the visual field, where

- (1) the optic nerve leaves the eye.
- (2) only rods are present.
- (3) more rods than cones are found.
- (4) high density of cones occur, but has no rods.

10. Doctors use stethoscope to hear the sounds produced during each cardiac cycle. The second sound is heard when :

- (1) Ventricular walls vibrate due to gushing in of blood from atria  
Semilunar valves close down after the blood flows into vessels from ventricles
- (3) AV node receives signal from SA node  
AV valves open up

11. Coconut water from a tender coconut is

- (1) Free nuclear endosperm
- (2) Innermost layers of the seed coat
- (3) Degenerated nucellus
- (4) Immature embryo

12. The cutting of DNA at specific locations became possible with the discovery of .

- (1) Probes
- (2) Selectable markers
- (3) Ligases
- (4) Restriction enzymes

13. Which of the following structures is not found in a prokaryotic cell ?

- (1) Ribosome
- (2) Mesosome
- (3) Plasma membrane
- (4) Nuclear envelope

में से कौन-सा घटक प्रतिरक्षालोब्युलिन मानव अधिक प्रतिशत में पाया जाता है ?

- (1) IgM
- (2) IgA
- (3) IgG
- (4) IgD

के नेत्र में 'फोवा' (भोविया) दृश्य क्षेत्र का केन्द्र

चाक्षुष तंत्रिका नेत्र से बाहर निकलती है।

- (2) केवल शलाकाएँ होती हैं।
- (3) शंकुओं की अपेक्षा शलाकाएँ अधिक होती हैं।
- (4) शंकुओं की संख्या अधिक होती है, लेकिन शलाकाएँ नहीं होती।

10. प्रत्येक हृदय चक्र के दौरान उत्पन्न होने वाली ध्वनि तरंग का सुनने के लिए चिकित्सक स्टेथोस्कोप का उपयोग करते हैं। ध्वनि उस समय सुनाई देती है जब

- (1) अतिदा से रंधर के क्लपक में आने के कारण धित्तियों में होम लगता है।  
निलयों से बहिःकाओं में रंधर के बहने के बाद अर्धचंद्राकार कपाट बन्द हो जाते हैं।  
AV पर्वराधि SA पर्वराधि से प्राप्त करता है
- (4) AV कपाट खुल जाते हैं।

11. कच्चे नारियल का नारियल पानी क्या है ?

- (1) केन्द्रकी भ्रूणपोष
- (2) बीज चोत की सबसे अंदर
- (3) अपभ्रष्ट बीजाण्डकाय  
अपरिपक्व

12. डी.एन.ए. का विशिष्ट स्थानों पर काट देना किसके आविष्कार से संभव हुआ ?

- (1) प्रोब्स
- (2) सलैक्टैबल मार्कर्स
- (3) लाइगेज
- (4) रेस्ट्रिक्शन एंजाइम

13. निम्नलिखित में से कौन सी संरचना प्राक्केन्द्रकी कोशिका में नहीं पायी जाती ?

- (1) राइबोसोम
- (2) मध्यकाय (मीजोसोम)
- (3) प्लाज्मा कला
- (4) केन्द्रक आवरण

14. Arrange the following events of meiosis in correct sequence
- Crossing over
  - Synapsis
  - Terminalisation of chiasmata
  - Disappearance of nucleolus
- (b), (a), (c), (d)
  - (a), (b), (c), (d)
  - (b), (c), (d), (a)
  - (b), (a), (d), (c)
15. A column of water within xylem vessels of tall trees does not break under its weight because of .
- Tensile strength of water
  - Lignification of xylem vessels
  - Positive root pressure
  - Dissolved sugars in water
16. The imperfect fungi which are decomposers of litter and help in mineral cycling belong to
- Basidiomycetes
  - Phycomycetes
  - Ascomycetes
  - Deuteromycetes
17. The structures that help some bacteria to attach to rocks and/or host tissues are :
- Fimbriae
  - Mesosomes
  - Holdfast
  - Rhizoids
18. The DNA molecule to which the gene of interest is integrated for cloning is called
- Vector
  - Template
  - Carrier
  - Transformer
19. Pick up the wrong statement
- Protista have photosynthetic and heterotrophic modes of nutrition
  - Some fungi are edible
  - Nuclear membrane is present in Monera
  - Cell wall is absent in Animalia
14. अर्धसूत्री विभाजन की घटनाओं को सही क्रम में व्यवस्थित कीजिए :
- क्रॉसिंग ओवर (जीन विनिमय)
  - सिनैप्सिस (सूत्रयुग्मन)
  - क्लाइमेटा का अंत
  - केंद्रिका का अदृश्य होना
- (b), (a), (c), (d)
  - (a), (b), (c), (d)
  - (b), (c), (d), (a)
  - (b), (a), (d), (c)
15. एक लम्बे वृक्ष की दारू वाहिकाओं में जल का स्तम्भ अपने भार से नहीं टूटता। इसका कारण है :
- जल की तनन शक्ति
  - दारू वाहिकाओं का लिग्निनकरण
  - धनात्मक मूल दाब
  - जल में घुलित शर्करा
16. अपूर्ण कवक जो करकट के अपघटक हैं और खनिजों के चक्रण में सहायता करते हैं, वे किससे सम्बन्धित हैं?
- बेसिडोमाइसिटीज
  - फाइकोमाइसिटीज
  - एस्कोमाइसिटीज
  - ड्यूटेरोमाइसिटीज
17. वह संरचना जो कुछ जावाणुओं का चढ़ाना या पाषाण ऊतक से संयोजी होने में सहायता करती है, क्या है?
- झालर
  - पींजोसोम
  - हॉल्डफास्ट
  - मूलाभस
18. उस डी एन ए अणु को क्या कहते हैं जिसमें क्लोन के लिए रुचि वाली जीन को समाकलित किया जाता है?
- संवाहक
  - रूपदा
  - वाहक
  - रूपान्तरक
19. गलत कथन को चुनिए :
- प्रोटिस्टा में पोषण की विधियाँ प्रकाशश्लेषण एवं विषमभोजी होती हैं।
  - कुछ कवक खाने योग्य होते हैं।
  - मोनेरा में केन्द्रक कला उपस्थित होती है।
  - एनिमेलिया में कोशिका भित्ति अनुपस्थित होती है।

20. Metagenesis refers to.
- Alternation of generation between asexual and sexual phases of an organism
  - Occurrence of drastic change in form during post-embryonic development
  - Presence of a segmented body and parthenogenetic mode of reproduction
  - Presence of different morphic forms

21. Which of the following events is not associated with ovulation in human female?
- Full development of Graafian follicle
  - Release of secondary oocyte
  - LH surge
  - Decrease in estradiol

22. Which of the following joints would allow no movement?
- Cartilaginous joint
  - Synovial joint
  - Ball and Socket joint
  - Fibrous joint

Match the following list of microbes and their importance

(a) <i>Sacharomyces cerevisiae</i>	(i) Production of immunosuppressive agents
(b) <i>Mucor</i>	(ii) Ripening of Swiss cheese
(c) <i>Trichoderma polysporum</i>	(iii) Commercial production of ethanol
(d) <i>Propionibacterium sharmani</i>	(iv) Production of clotting agents

	(a)	(b)	(c)	(d)
(1)	(iv)	(iii)	(ii)	(i)
(2)	(iv)	(ii)	(i)	(iii)
(3)	(iii)	(i)	(iv)	(ii)
(4)	(iii)	(iv)	(i)	(ii)

24. The UN conference of Parties on climate change in the year 2012 was held at.
- Doha
  - Lima
  - Warsaw
  - Durban

20. पेटा जैनेलिस (समैकांतरण) किसका संकेत देता है?

- (1) एक की अलैंगिक और लैंगिक प्रवृत्तियों के बीच
- शुक्राणुओं की परिधर्षण के स्वरूप में संभार का प्रायः ज्ञान
- एक संखंड शरीर और जन्म की अनिवेकजन विधि का प्रायः ज्ञान
- ( ) विविध स्वरूपों में प्रायः ज्ञान

21. निम्नलिखित घटनाओं में से कौन-सी घटना से संबंधित नहीं है?
- प्राची पुटक का पूर्ण विकास
  - द्वितीयक अंडक का निर्माण
  - LH प्रवाह (LH सर्ज)
  - ईस्ट्रैडिओल में कमी

22. निम्नलिखित में से कौन-सी संधि किसी प्रकार की गति की अनुमति नहीं देती?
- उपास्थिल संधि
  - सायनोवियल संधि
  - कंदुक खिलिका संधि (याल व साफ्ट जॉइंट)
  - रेशदार संधि

सूक्ष्मजीवों को और उनके महत्व को निम्नलिखित सूची का कीजिए

(a) <i>सेकैरोमाइसीज</i>	प्रतिरक्षी संदयक कारकों का उत्पादन
(b) <i>सर्षीसआई</i>	(i) उत्पादन
(c) <i>मोनेस्कस पर्यूरियस</i>	(ii) स्विस् चीज को पकाना
(d) <i>ट्राइकाडर्मा वेल्गोस्पोरम</i>	(iii) ईथेनॉल का व्यावसायिक उत्पादन
(e) <i>प्रोपिआनि बैक्टीरियम</i>	(iv) रुधिर में कोलेस्ट्रॉल कम करने का कारक

	(a)	(b)	(c)	(d)
(1)	(iv)	(iii)	(ii)	(i)
(2)	(iv)	(ii)	(i)	(iii)
(3)	(iii)	(i)	(iv)	(ii)
(4)	(iii)	(iv)	(i)	(ii)

24. वर्ष 2012 में जलवायु परिवर्तन पर का यु.एन. सम्मेलन कहाँ हुआ था?
- डोहा
  - लीमा
  - वार्सा
  - डरबन

25. If you suspect major deficiency of antibodies in a person, to which of the following would you look for confirmatory evidence ?

- (1) Serum albumins
- (2) Haemocytes
- (3) Serum globulins
- (4) Fibrinogen in plasma

26. Chromatophores take part in :

- (1) Growth
- (2) Movement
- (3) Respiration
- (4) Photosynthesis

27. Acid rain is caused by increase in the atmospheric concentration of :

- (1)  $SO_3$  and CO
- (2)  $CO_2$  and CO
- (3) and dust
- (4)  $SO_2$  and  $NO_2$

28. During ecological succession

- (1) the establishment of a new biotic community is very fast in its primary phase.
- (2) the numbers and types of animals remain constant
- (3) the changes lead to a community that is in near equilibrium with the environment and is called pioneer community
- (4) the gradual and predictable change in species composition occurs in a given area

29. The oxygen evolved during photosynthesis comes from water molecules. Which one of the following pairs of elements is involved in this reaction ?

- (1) Manganese and Potassium
- (2) Magnesium and Molybdenum
- (3) Magnesium and Chlorine
- (4) Manganese and Chlorine

30. Which of the following pairs is not correctly matched ?

Mode of reproduction	Example
(1) Rhizome	Banana
(2) Binary fission	<i>Sargassum</i>
(3) Conidia	<i>Penicillium</i>
(4) Offset	Water hyacinth

25. यदि आप किसी व्यक्ति में प्रतिरक्षियों की गंभीर कमी का

- (1) सीरम एल्ब्यूमिन
- (2) ~~रक्तमात्रा~~ ~~है~~, तो आप रुष्टि लिए निम्नलिखित में से
- (3) सीरम ग्लोब्युलिन
- (4) ~~रक्तमात्रा~~ में फिब्रिनोजिन

26. वर्णकलक ( क्रोमेटोफोर ) किस क्रिया में भाग लेते हैं ?

- (1) वृद्धि
- (2) गति
- (3) श्वसन
- (4) ~~प्रकाश संश्लेषण~~

27. अम्ल वर्षा/व्रतावरण में किसकी सांद्रता के अधिकता के कारण होती है ?

- (1)  $SO_3$  और CO
- (2)  $CO_2$  और CO
- (3)  $O_2$  और धूल
- (4)  $SO_2$  और  $NO_2$

28. पारिस्थितिकीय अनुक्रमण के दौरान :

- (1) ~~इसकी~~ प्राथमिक प्रावस्था में नया जीवीय समुदाय बहुत लीज गति से स्थापित होता है।
- (2) ~~जंतुओं~~ की संख्या और किस्में स्थिर रहती हैं।
- (3) ~~जल समुदाय~~ में होने वाले परिवर्तनों के कारण जो पर्यावरण के साम्य के समीप होता है, पुरोगामी समुदाय कहलाती है।
- (4) किसी स्पीशोज की संघटना में क्रमिक और पहले से बताये जा सकने वाले परिवर्तन किसी एक क्षेत्र में होते हैं।

29. प्रकाश संश्लेषण के दौरान निष्काशित आक्सीजन जल अणु से आती है। इस अभिक्रिया में निम्नलिखित तत्वों का कौन एक युग्म शामिल है ?

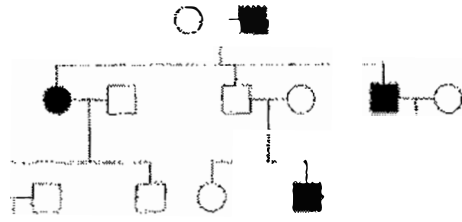
- (1) मैंगनीज और पोटेशियम ✓
- (2) मैग्नीशियम और मोलिब्डेनम ✗
- (3) मैग्नीशियम और क्लोरीन
- (4) मैंगनीज और क्लोरीन

30. निम्नलिखित में से कौन सा युग्म सही सुमेलित नहीं है ?

प्रजनन विधि	उदाहरण
(1) प्रकन्द	केला
(2) द्विखंडन	सारगसम
(3) कोनिडिया	पैनिसिलियम
(4) भ्रूस्तारी	जल ह्यामसिंध

31. In the following human pedigree, the filled symbols represent the affected individuals. Identify the type of given pedigree

(i)



(ii)



- (1) X-linked recessive
- (2) Autosomal recessive
- (3) X-linked dominant
- (4) Autosomal dominant

32. Which one of the following animals has two separate circulatory pathways?

- (1) Lizard
- (2) Whale
- (3) Shark
- (4) Frog

33. Flowers are unisexual in

- (1) Cucumber
- (2) China rose
- (3) Onion
- (4) Pea

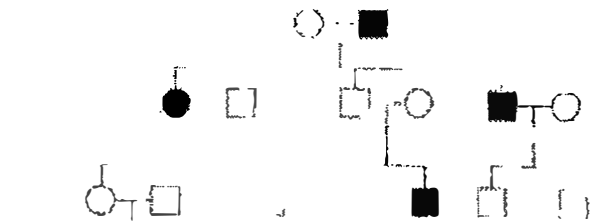
34. Which one of the following fruits is parthenocarpic?

- (1) Apple
- (2) Jackfruit
- (3) Banana
- (4) Brinjal

35. A pleiotropic gene

- (1) is a gene evolved during Pliocene
- (2) controls a trait only in combination with another gene
- (3) controls multiple traits in an individual.
- (4) is expressed only in primitive plants.

31. निम्नलिखित मानव वंशावली में, भरे हुए संकेत प्रभावित व्यक्तियों का निरूपण करते हैं। दी गयी वंशावली के प्रकार को पहचानिए :



(i)



- (1) X-सहलग्न अप्रभावी
- (2) अलिंगसूत्री अप्रभावी
- (3) X-सहलग्न प्रभावी
- (4) अलिंगसूत्री प्रभावी

32. निम्नलिखित जंतुओं में से किस में दो अलग-अलग परिसंचारी पथ होते हैं ?

- (1) छिपकली ✓
- (2) शार्क
- (3) मेंढक

पुनः एकलिंगी

- (1) खीरा
- (2) चयना रोज ✓
- (3) प्याज
- (4) मटर

34. निम्नलिखित में से कौन सा फल अनिषेकफलनीक है ?

- (1) सेब
- (2) कटहल
- (3) केला ✓
- (4) ब्रिंजल

35. एक बहुप्रभाविक जीन

- (1) अत्यन्त नूतन काल में विकसित हुआ जीन।
- (2) अन्य जीन से संयोजित होकर केवल एक लक्षण को नियंत्रित करता है।
- (3) एक व्यष्टि में बहुविध लक्षणों को नियंत्रित करता है।
- (4) केवल उच्च पादपों में अभिव्यक्त होता है।

36. Which of the following is not a function of the skeletal system ?
- Storage of minerals
  - Production of body heat
  - Locomotion
  - Production of erythrocytes
37. A jawless fish, which lays eggs in fresh water and whose ammocoetes larvae after metamorphosis return to the ocean is
- Myxine*  
*Neomyxine*
- Petromyzon*
  - Eptatretus*
38. Filiform apparatus is characteristic feature of :
- Nucellar embryo
  - Aleurone cell
  - Synergids
  - Generative cell
39. Read the different components from (a) to (d) in the list given below and tell the correct order of the components with reference to their arrangement from outer side to inner side in a woody dicot stem .
- Secondary cortex  
(b) Wood  
(c) Secondary phloem  
(d) Phellum
- The correct order is
- (a), (b), (d), (c)
  - (d), (a), (c), (b)
  - (d), (c), (a), (b)
  - (c), (d), (b), (a)
40. Which one of the following hormones is not involved in sugar metabolism ?
- Aldosterone
  - Insulin
  - Glucagon
  - Cortisone
41. Golden rice is a genetically modified crop plant where the incorporated gene is meant for biosynthesis of .
- Vitamin C
  - Omega 3
  - Vitamin A
  - Vitamin B
36. निम्नलिखित में से कौन-सा कंकाल-तंत्र का कार्य नहीं है ?
- खनिजों का भंडारण
  - दह-ऊष्मा का उत्पादन
  - संचलन
  - रक्ताणुओं का
37. जबदाहीन जो अंडे अलवण जल में देती है और जिसके ऐंमोसॉइट कायांतरण बाद वापस समुद्र में चले जाते हैं हैं
- मिक्ससाइन
  - नियोमिक्ससाइन
  - पेट्रोमाइजॉन
  - एप्टेटेटस
38. तन्तुरूप उपकरण किसका लाक्षणिक गुण है ?
- बीजाणुइकायिक भ्रूण
  - एल्यूरोन कोशिका
  - सहाय कोशिकाएँ
  - जनन कोशिका
39. नीचे गयी सूची में (a) से (d) तक विभिन्न अवयवों को पढ़ें और एक काष्ठ्रीय द्विबीजाणुपत्री तने में बाहर से भीतर की ओर उनका व्यवस्था का सही क्रम
- (a) द्वितीयक बल्कुट  
(b) काष्ठ  
(c) द्वितीयक वायवाह  
(d) काग
- सही क्रम है
- (a), (b), (d), (c)
  - (d), (a), (c), (b)
  - (d), (c), (a), (b)
  - (c), (d), (b), (a)
40. निम्नलिखित हॉर्मोनों में से कौन-सा एक हॉर्मोन शर्करा उपापचय में शामिल नहीं होता ?
- ऐल्डोस्टेरॉन
  - इंसुलिन
  - ग्लूकैगॉन
  - कॉर्टिसोन
41. सुनहरे (गोल्डन) चावल एक आनुवंशिक रूपांतरित फसल पादप है। इसमें निवेशित जीन किसके जैविक संश्लेषण के लिए है ?
- विटामिन C
  - ओमेगा 3
  - विटामिन A
  - विटामिन B



42. Outbreeding is an important strategy of animal husbandry because it:
- (1) is useful in producing purelines of animals.
  - (2) is useful in overcoming inbreeding depression.
  - (3) exposes harmful recessive genes that are eliminated by selection.
  - (4) helps in accumulation of superior genes
43. A gene showing codominance has:
- (1) alleles tightly linked on the same chromosome
  - (2) alleles that are recessive to each other
  - (3) both alleles independently expressed in the heterozygote
  - (4) one allele dominant on the other
44. Which one of the following hormones though synthesised elsewhere, is stored and released by the master gland?
- (1) Luteinizing hormone
  - (2) Prolactin
  - (3) Melanocyte stimulating hormone
  - (4) Antidiuretic hormone
45. Increase in concentration of the toxicant at successive trophic levels is known as:
- (1) Biodeterioration
  - (2) Biotransformation
  - (3) Biogeochemical cycling
  - (4) Biomagnification
46. Industrial melanism is an example of:
- (1) Natural selection
  - (2) Mutation
  - (3) Neo Lamarckism
  - (4) Neo Darwinism
47. The primary dentition in human differs from permanent dentition in not having one of the following type of teeth
- (1) Premolars
  - (2) Molars
  - (3) Incisors
  - (4) Canine
42. पशुपालन में बहि प्रजनन एक महत्वपूर्ण क्रियाविधि है क्योंकि यह
- (1) जंतुओं के शुद्ध वंशक्रमों को उत्पन्न करने में उपयोगी है।
  - (2) हॉर्मोनों के अप्रभावी रूपों को उत्पन्न करने में उपयोगी है। जिन्हें चयन द्वारा निष्कासित किया जा सकता है।
  - (3) बेहतर जीनों के एकत्रीकरण में मदद करता है।
- सहप्रभावित दर्शाते वाली जीन में क्या होता है?
- (1) युग्मविकल्पी एक ही गुणसूत्र पर कम कर सहलग्नित होते हैं।
  - (2) वे युग्मविकल्पी जो एक दूसरे के लिए अप्रभावी होते हैं।
  - (3) द्विषम युग्मज में दोनों युग्मविकल्पी स्वतंत्र रूप से अभिव्यक्त होते हैं।
  - (4) एक युग्मविकल्पी दूसरे पर प्रभावी होता है।
44. निम्नलिखित हॉर्मोनों में से कौन-सा हॉर्मोन, हालाँकि कहीं अन्य स्थान पर सश्लेषित होता है, लेकिन उसका भंडारण और निर्मोचन प्रमुख ग्रंथि द्वारा होता है?
- (1) ल्यूटीनाइजिंग हॉर्मोन
  - (2) प्रोलैक्टिन
  - (3) मेलानोसाइट उदीपक हॉर्मोन
  - (4) प्रतिमूत्र हॉर्मोन
45. आनुक्रमिक पोषी स्तर पर विष की सांद्रता बढ़ने को क्या कहते हैं?
- (1) जैव अपकर्षण
  - (2) जैव रूपान्तरण
  - (3) जैव धूरसायनिक चक्र
  - (4) जैव आवर्धन
46. औद्योगिक अतिकृष्णता एक उदाहरण है:
- (1) प्राकृतिक वरण का
  - (2) उत्परिवर्तन का
  - (3) नियोलैमार्किज्म का
  - (4) नियोडार्विनिज्म का
47. मानव में प्राथमिक दंतविन्यास स्थायी दंतविन्यास से इस नाते भिन्न होता है कि प्राथमिक दंतविन्यास में निम्नलिखित कौन से प्रकार के दांत नहीं होते?
- (1) अग्रचर्चणक
  - (2) चर्वणक
  - (3) कृतक
  - (4) रदनक

48. The wheat grain has an embryo with one large, shield-shaped cotyledon known as :
- (1) Coleoptiza
  - (2) Scutellum
  - (3) Coleoptile
  - (4) Epiblast
49. The body cells in cockroach discharge their nitrogenous waste in the haemolymph mainly in the form of
- (1) Potassium urate
  - (2) Urea
  - (3) Calcium carbonate
  - (4) Ammonia
- Which of the following biomolecules does have a phosphodiester bond ?
- (1) Monosaccharides in a polysaccharide
  - (2) Amino acids in a polypeptide
  - (3) Nucleic acids in a nucleotide
  - (4) Fatty acids in a diglyceride
51. The term "linkage" was coined by
- (1) T. Boveri
  - (2) G. Mendel
  - (3) W. Sutton
  - (4) T.H. Morgan
52. Which one is a wrong statement ?
- (1) *Mucor* has biflagellate zoospores
  - (2) Haploid endosperm is typical feature of gymnosperms
  - (3) Brown algae have chlorophyll a and c, and fucoxanthin
  - (4) Archegonia are found in Bryophyta, Pteridophyta and Gymnosperms
53. Ectopic pregnancies are referred to as :
- (1) Implantation of embryo at site other than uterus.
  - (2) Implantation of defective embryo in the uterus
  - (3) Pregnancies terminated due to hormonal imbalance.
  - (4) Pregnancies with genetic abnormality.
48. गेहूँ के दाने में भ्रूण में एक बड़ा झाल के आकार का बीजपत्र होता है। वह क्या कहलाता है ?
- पूलांकुर चोल
  - स्कुटेलम
  - (3) प्रांकुर चोल
  - अधिकोरक
49. तिलचट्टे की शरीर-कोशिकाएँ अपने नाइट्रोजनी अपशिष्ट को हीमोलिम्फ में प्रधान रूप से इस रूप में डाल देते हैं :
- (1) पोटैशियम यूरेट
  - (2) यूरिया
  - (3) कैल्सियम कार्बोनेट
  - (4) अमोनिया
50. निम्नलिखित जैवअणुओं में से किस में फॉस्फोडिइस्टर बंध होता है ?
- (1) एक पोलिसैकैराइड में मोनोसैकैराइड
  - (2) एक पोलिपेप्टाइड में अमीनो अम्ल
  - (3) एक न्यूक्लियोटाइड में न्यूक्लिक अम्ल
  - (4) एक डाइग्लिसराइड में वसा अम्ल
51. सहलग्नता (लिंगेज) शब्द किसने प्रयोग किया था ?
- (1) टी. बोवरी
  - (2) जी. मेंडल
  - (3) डब्ल्यू. सटन
  - टी.एच. मॉर्गन
52. निम्नलिखित में से कौन सा कथन गलत है ?
- (1) म्यूकर में द्विकशाधिक चल बीजाणु होते हैं।
  - (2) अगुणित भ्रूणपोष अनातृत बीजी पादपों का प्रारूपिक लक्षण है।
  - (3) भूरे शैबालों में पर्णहरित a और c तथा फ्यूकोजेन्थीन होते हैं।
  - (4) स्त्रीधानी, ब्रह्मोफाइटा, टेरिडोफाइट्टा और अनावृत्ती पादपों में पायी जाती है।
53. अपस्थानिक सगर्भताएँ जानी जाती हैं :
- गर्भाशय के अतिरिक्त भ्रूण का किसी अन्य स्थान पर अंतर्रोपण।
  - (2) दोषयुक्त भ्रूण का गर्भाशय में अंतर्रोपण।
  - (3) सगर्भताएँ जो हार्मोन के असन्तुलन होने से अंत हो जाती हैं।

54. Most animals that live in deep oceanic waters are :
- (1) secondary consumers
  - (2) tertiary consumers
  - (3) detritivores
  - (4) primary consumers
55. Which of the following diseases is caused by a protozoan ?
- (1) Influenza
  - (2) Babesiosis
  - (3) Blastomycosis
  - (4) Syphilis
56. In which of the following interactions both partners are adversely affected ?
- (1) Predation
  - (2) Parasitism
  - (3) Mutualism
  - (4) Competition
- Identify the correct order of organisation of genetic material from largest to smallest
- (1) Genome, chromosome, nucleotide,
  - (2) Genome, chromosome, gene, nucleotide
  - (3) Chromosome, genome, nucleotide, gene
  - (4) Chromosome, gene, genome, nucleotide
58. A colour blind man marries a woman with normal sight who has no history of colour blindness in her family. What is the probability of their grandson being colour blind ?
- (1) 1
  - (2)  $\frac{1}{2}$
  - (3) 0.25
  - (4) 0.5
59. In photosynthesis, the light-independent reactions take place at :
- (1) Photosystem I
  - (2) Photosystem II
  - (3) Stromal matrix
  - (4) Thylakoid lumen
54. ज्यादातर जन्तु जो गहरे समुद्रीय पानी में रहते हैं, वे होते हैं :
- (1) माध्यमिक उपभोक्ता
  - (2) तृतीयक उपभोक्ता
  - (3) अपरदभोजी
  - (4) प्राथमिक उपभोक्ता
55. निम्नलिखित में से कौन-सा रोग प्रोटोजोआ के कारण होता है ?
- (1) इन्फ्लूएन्जा
  - (2) बैबेसिओसिस ✓
  - (3) ब्लास्टोमाइकोसिस
  - (4) सिफलिस
56. निम्नलिखित में से किस परस्परिक क्रिया में दोनों समी प्रतिकूल रूप में प्रभावित होते हैं ?
- (1) परभक्षण ✓
  - (2) परजीविता
  - (3) सहोपकारिता
  - (4) स्पर्धा
57. सबसे बड़े से प्रारंभ करके सबसे छोटे के क्रम में जीवों के आनुवंशिक पदार्थ सही क्रम को पहचानिए।
- (1) जीनोम, गुणसूत्र, न्यूक्लियोटाइड, जीन
  - (2) जीनोम, गुणसूत्र, जीन, न्यूक्लियोटाइड
  - (3) गुणसूत्र, जीनोम, न्यूक्लियोटाइड, जीन
  - (4) गुणसूत्र, जीन, जीनोम, न्यूक्लियोटाइड
58. एक वर्णांध व्यक्ति सामान्य दृष्टि वाली एक ऐसी महिला से विवाह करता है जिसके परिवार का कोई भी सदस्य वर्णांध नहीं है। इस दंपति के पोतों के वर्णांध होने की क्या संभावना है ?
- (1) 1
  - (2) शून्य ✓
  - (3) 0.25
  - (4) 0.5
59. प्रकाश संश्लेषण में प्रकाश-स्वतंत्र अभिक्रियायें कहाँ होती हैं ?
- (1) प्रकाशतंत्र - I
  - (2) प्रकाशतंत्र - II
  - (3) पीटिकाय आधात्री
  - (4) थाइलेकोइड अवकाशिका

60. In which of the following both pairs have correct combination ?

- |                                |                         |
|--------------------------------|-------------------------|
| (1) Gaseous nutrient cycle     | Carbon and sulphur      |
| (1) Sedimentary nutrient cycle | Nitrogen and Phosphorus |
| (2) Gaseous nutrient cycle     | Nitrogen and sulphur    |
| (2) Sedimentary nutrient cycle | Carbon and Phosphorus   |
| (3) Gaseous nutrient cycle     | Sulphur and Phosphorus  |
| (3) Sedimentary nutrient cycle | Carbon and Nitrogen     |
| (4) Gaseous nutrient cycle     | Carbon and Nitrogen     |
| (4) Sedimentary nutrient cycle | Sulphur and Phosphorus  |

61. The introduction of t-DNA into plants involves :

- (1) Altering the pH of the soil, then heat-shocking the plants
- (2) Exposing the plants to cold for a brief period
- (3) Allowing the plant roots to stand in water
- (4) Infection of the plant by *Agrobacterium tumefaciens*

62. The wings of a bird and the wings of an insect are

- (1) analogous structures and represent convergent evolution
- (2) phylogenetic structures and represent divergent evolution
- (3) homologous structures and represent convergent evolution
- (4) homologous structures and represent divergent evolution

63. Root pressure develops due to :

- (1) Low osmotic potential in soil
- (2) Passive absorption
- (3) Increase in transpiration
- (4) Active absorption

64. Human urine is usually acidic because :

- (1) excreted plasma proteins are acidic.
- (2) potassium and sodium exchange generates acidity.
- (3) hydrogen ions are actively secreted into the filtrate.
- (4) the sodium transporter exchanges one hydrogen ion for each sodium ion, in peritubular capillaries.

60. निम्नलिखित में से किसमें दोनों युग्मों में सही संयोजन है ?

- |                      |                       |
|----------------------|-----------------------|
| (1) गैसीय पोषण चक्र  | कार्बन और मलफर        |
| (1) अवसादी पोषण चक्र | नाइट्रोजन और फॉस्फोरस |
| (2) गैसीय पोषण चक्र  | नाइट्रोजन और मलफर     |
| (2) अवसादी पोषण चक्र | कार्बन और फॉस्फोरस    |
| (3) गैसीय पोषण चक्र  | मलफर और फॉस्फोरस      |
| (3) अवसादी पोषण चक्र | कार्बन और नाइट्रोजन   |
| (4) गैसीय पोषण चक्र  | कार्बन और नाइट्रोजन   |
| (4) अवसादी पोषण चक्र | मलफर और फॉस्फोरस      |

61. पादपों में टी डी.एन.ए. (t-DNA) के प्रवेश से क्या होता है

- (1) मृदा के pH में बदलाव आता है और पादप में प्रघात होता है।
- (2) पादपों को थोड़े अल्पकाल के लिए शीत में उद्भार करना पड़ता है।
- (3) पादप मूलों को जल में रखने देता है।
- (4) पादप में एगोबैक्टीरियम ट्यूमिफैशिएन्स द्वारा संक्रमण होता है।

62. पक्षी के पंख और कीट के पंख :

- (1) अनुरूप संरचनाएँ हैं और समूह विकास को दर्शाती हैं।
- (2) वंशावली संरचनाएँ हैं और अपभ्रम विकास को दर्शाती हैं।
- (3) समजातीय संरचनाएँ हैं और समूह विकास को दर्शाती हैं।
- (4) समजातीय संरचनाएँ हैं और अपभ्रम विकास को दर्शाती हैं।

63. मूलदाब किसकी वजह से विकसित होता है ?

- (1) मृदा में निम्न परासरणी विभव के कारण
- (2) निष्क्रिय अवशोषण के कारण
- (3) वाष्पोत्सर्जन में बढ़ाव के कारण
- (4) सक्रिय अवशोषण के कारण

64. मानव मूत्र आमतौर से अम्लीय होता है क्योंकि

- (1) उत्सर्जित प्लाज्मा प्रोटीन अम्लीय होती हैं।
- (2) पोटेशियम और सोडियम विनिमय में अम्लता पैदा जाती है।
- (3) हाइड्रोजन आयन सक्रिय रूप से निरस्यद से हल्वित जाते हैं।
- (4) परिनलिकाकार कोशिकाओं में, सोडियम ट्रांसपोर्टर प्रत्येक सोडियम आयन का विनिमय एक हाइड्रोजन आयन कर देता है।

65. A protoplast is a cell
- (1) without nucleus
  - (2) undergoing division
  - (3) without cell wall
  - (4) without plasma membrane
66. The species confined to a particular region and not found elsewhere is termed as :
- (1) Alien
  - (2) Endemic
  - (3) Rare
  - (4) Keystone
67. Select the wrong statement :
- (1) W.M. Stanley showed that viruses could be crystallized
  - (2) The term 'contagium vivum fluidum' was coined by M.W. Beijerinck
  - (3) Mosaic disease in tobacco and AIDS in human being are caused by viruses
  - (4) The viroids were discovered by D.J. Ivanowski
68. Axile placentation is present in
- (1) Lemon
  - (2) Pea
  - (3) Argemone
  - (4) Dianthus
69. A childless couple can be assisted to have a child through a technique called GIFT. The full form of this technique is :
- (1) Gamete intra fallopian transfer
  - (2) Gamete internal fertilization and transfer
  - (3) Germ cell internal fallopian transfer
  - (4) Gamete inseminated fallopian transfer
70. Destruction of the anterior horn cells of the spinal cord would result in loss of :
- (1) voluntary motor impulses
  - (2) commissural impulses
  - (3) integrating impulses
  - (4) sensory impulses
65. जीवद्रव्यक एक कोशिका है :
- (1) केन्द्रक रहित
  - (2) विभाजित होती हुई
  - (3) कोशिका भित्ति रहित
  - (4) प्रद्रव्य झिल्ली रहित
66. एक विशिष्ट क्षेत्र में सीमित रहने वाली जाति को जो अन्यत्र नहीं पायी जाती, उसे क्या कहा जाता है ?
- (1) विदेशी
  - (2) विशेष क्षेत्री
  - (3) दुर्लभ
  - (4) कीस्टोन
67. गलत कथन को चुनिए :
- (1) डब्ल्यू. एम. स्टैन्ले ने दर्शाया की विषाणु क्रिस्टलीकृत हो सकते हैं।
  - (2) "contagium vivum fluidum" पद एम. डब्ल्यू. बिजैरिनेक ने दिया था।
  - (3) तम्बाकू में किर्मीर रोग और मनुष्य में ए.आई.डी.एस. विषाणुओं के द्वारा होता है।
  - (4) विषाणुष डी.जे. इवानोवस्की द्वारा खोजे गये थे।
68. स्तंभीय बीजाण्ड न्यास किसमें होता है ?
- (1) नींबू
  - (2) मटर
  - (3) आर्जमोन
  - (4) डाइएन्थस
69. एक निःसंतान दंपति को GIFT नामक तकनीक के ज़रिए बच्चा प्राप्त करने में मदद कौ जा सकती है। इस तकनीक का पूरा नाम है .
- (1) अंत फैलोपी नलिका में युग्मक का स्थानांतरण
  - (2) युग्मक का आंतरिक निषेचन और स्थानांतरण
  - (3) आंतरिक फैलोपी नलिका में जनन कोशिका का स्थानांतरण
  - (4) वीर्यसेचित फैलोपी नलिका में युग्मक का स्थानांतरण
70. घेरुज्जु की अग्र होर्न की कोशिकाएँ यदि नष्ट हो जाएँ तो इसके परिणाम स्वरूप किसका लोप होगा ?
- (1) ऐच्छिक प्रेरक प्रतिवर्त
  - (2) संधायी प्रतिवर्त
  - (3) समावेशी (इंटीग्रेटिंग) प्रतिवर्त
  - (4) संवेदी प्रतिवर्त

71. During biological nitrogen fixation, inactivation of nitrogenase by oxygen poisoning is prevented by :
- (1) Xanthophyll
  - (2) Carotene
  - (3) Cytochrome
  - (4) Leghaemoglobin

72. An association of individuals of different species living in the same habitat and having functional interactions is :
- (1) Biotic community
  - (2) Ecosystem
  - (3) Population
  - (4) Ecological niche

73. Name the pulmonary disease in which alveolar surface area involved in gas exchange is drastically reduced due to damage in the alveolar walls
- (1) Emphysema
  - (2) Pneumonia
  - (3) Asthma
  - (4) Pleurisy

74. Balbiani rings are sites of
- (1) Nucleotide synthesis
  - (2) Polysaccharide synthesis
  - (3) RNA and protein synthesis
  - (4) Lipid synthesis

75. Match the columns and identify the correct option.

Column I		Column II	
(a) Thylakoids	(i)	Disc-shaped sacs in Golgi apparatus	
(b) Cristae	(ii)	Condensed structure of DNA	
(c) Cisternae	(iii)	Flat membranous sacs in stroma	
(d) Chromatin	(iv)	Infoldings in mitochondria	

	(a)	(b)	(c)	(d)
(1)	(iii)	(iv)	(i)	(ii)
(2)	(iii)	(i)	(iv)	(ii)
(3)	(iii)	(iv)	(ii)	(i)
(4)	(iv)	(iii)	(i)	(ii)

76. Cellular organelles with membranes are .
- (1) chromosomes, ribosomes and endoplasmic reticulum
  - (2) endoplasmic reticulum, ribosomes and nuclei
  - (3) lysosomes, Golgi apparatus and mitochondria
  - (4) nuclei, ribosomes and mitochondria

71. नाइट्रोजन स्थिरीकरण के दौरान आक्सीजन के विषैले प्रभाव से नाइट्रोजिनेज का निष्क्रियकरण किस द्वारा रोका जाता है ?

- (1) जैन्थोफिल
- (2) कैरोटिन
- (3) साइटोक्रोम
- (4) लेगहीमोग्लोबिन

72. एक ही पर्यावरण में रह रही विभिन्न प्रजातियों के व्यष्टियों का पारस्परिक संबंध और क्रियात्मक क्रिया करना है .

- (1) जीवीय समुदाय
- (2) पातंत्र
- (3) समष्टि
- (4) पारिस्थितिक निकेत

73. उस फुफ्फुसी रोग का नाम बताइए जिसमें कूपिकीय भित्तियों के क्षत हो जाने के कारण गैस-विनिमय में शामिल कूपिकीय सतही क्षेत्र बहुत अधिक कम हो जाता है।

- (1) वातस्फोति
- (2) न्यूमोनिया
- (3) अस्थमा
- (4) प्लूरिसी

74. ब्राल्बियानी वलय स्थल हैं :

- (1) न्यूक्लियिक अम्ल संश्लेषण के
- (2) पोलिसैकैराइड संश्लेषण के
- (3) RNA और प्रोटीन संश्लेषण के
- (4) लिपिड संश्लेषण के

75. कॉलमों बीच मिलान कीजिए और सही विकल्प चुनिए

कॉलम I		कॉलम II	
(a) थायलॉकोइड	(i)	गॉल्जी उपकरण में डिस्कनुम कोष	
(b) क्रिस्टी	(ii)	DNA की संघनित संरचना	
(c) सिस्टर्ना	(iii)	स्ट्रोमा में चपटे झिल्लीमय को	
(d) क्रोमैटिन	(iv)	माइटोकॉन्ड्रिया में अंतर्वलन	

	(a)	(b)	(c)	(d)
(i)	(iii)	(iv)	(i)	(ii)
(ii)	(iii)	(i)	(iv)	(ii)
(iii)	(iii)	(iv)	(ii)	(i)
(iv)	(iv)	(iii)	(i)	(ii)

76. झिल्लीयुक्त कोशिकीय अंगक हैं :

- (1) गुणसूत्र, राइबोसोम और एंडोप्लास्मिक रेटिकुलम
- (2) एंडोप्लास्मिक रेटिकुलम, राइबोसोम और केन्द्रक
- (3) लायसोसोम, गॉल्जी उपकरण और माइटोकॉन्ड्रिया
- (4) केन्द्रक, राइबोसोम और माइटोकॉन्ड्रिया

77. Auxin can be bioassayed by :
- (1) Hydroponics
  - (2) Potometer
  - (3) Lettuce hypocotyl elongation
  - (4) Avena coleoptile curvature
77. आक्सीन को किसके द्वारा जैव आमापनित किया जा सकता है ?
- (1) जलसंवर्धन से
  - (2) पोटोमीटर से
  - (3) लेट्यूस बीजपत्राधार के लम्बन से
  - (4) एवीना प्राकुर चौर के वक्रण से
- Which of the following layers in an antral follicle is acellular ?
- (1) Theca interna
  - (2) Stroma
  - (3) Zona pellucida
  - (4) Granulosa
78. एन्ट्राल (antral) पुटक में निम्नलिखित में से कौन-सी अकोशिकीय होती है ?
- (1) थीका इंटरना (अंतर प्रावरक)
  - (2) स्ट्रोमा (पोठिका)
  - (3) ज़ोना पेल्ल्यूसिडा (पारदरार्गी अंडावरण)
  - (4) ग्रैनुलोसा (कणिकीय)
79. Satellite DNA is important because it :
- (1) shows high degree of polymorphism in population and also the same degree of polymorphism in an individual, which is heritable from parents to children.
  - (2) does not code for proteins and is same in all members of the population.
  - (3) codes for enzymes needed for DNA replication.
  - (4) codes for proteins needed in cell cycle.
79. अनुसंगी DNA महत्वपूर्ण होता है क्योंकि यह :
- (1) समष्टि में उच्च कोटि की बहुरूपता और साथ ही एक व्यक्ति में उतनी ही कोटि की बहुरूपता प्रदर्शित करता है जिसकी वंशागत जनकों से बच्चों तक हो सकती है।
  - (2) प्रोटीनों के लिए कोडन नहीं करता, और समष्टि के सभी सदस्यों में ऐसा ही होता है।
  - (3) उन एंजाइमों के लिए कोडन करता है जिनकी DNA के प्रतिकृतियन के लिए जरूरत होती है।
  - (4) उन प्रोटीनों के लिए कोडन करता है जिनकी कोशिका-चक्र के लिए जरूरत होती है।
80. Cell wall is absent in :
- (1) Funaria
  - (2) Mycoplasma
  - (3) Nostoc
  - (4) Aspergillus
80. किसमें कोशिका भित्ति का अभाव होता है ?
- (1) फुनारिया
  - (2) माइकोप्लाज्मा
  - (3) नॉस्टोक
  - (4) एस्पेरिलस
81. In angiosperms, microsporogenesis and megasporogenesis :
- (1) form gametes without further divisions
  - (2) Involve meiosis
  - (3) occur in ovule
  - (4) occur in anther
81. आवृत बीजी पादपों में लघुबीजाणुजनन और गुरुबीजाणु जनन :
- (1) बिना अग्र विभाजन के युग्मक बनाते हैं।
  - (2) अर्द्ध सूत्र विभाजन द्वारा होते हैं।
  - (3) बीजाण्ड में होता है।
  - (4) परागकोष में होता है।
82. Roots play insignificant role in absorption of water in :
- (1) Pistia
  - (2) Pea
  - (3) Wheat
  - (4) Sunflower
82. किसमें जड़ें, जल शोषण में नगण्य कार्य करती हैं ?
- (1) पिस्तिया
  - (2) मटर
  - (3) गेहूँ
  - (4) सूर्यमुखी

83. Which of the following are most suitable indicators of  $SO_2$  pollution in the environment ?
- (1) Conifers
  - (2) Algae
  - (3) Fungi
  - (4) Lichens
84. Grafted kidney may be rejected in a patient due to :
- (1) Cell-mediated immune response
  - (2) Passive immune response
  - (3) Innate immune response
  - (4) Humoral immune response
85. Body having meshwork of cells, internal cavities lined with food filtering flagellated cells and indirect development are the characteristics of phylum :
- (1) Porifera
  - (2) Mollusca
  - (3) Protozoa
  - (4) Coelenterata
86. In which group of organisms the cell walls form two thin overlapping shells which fit together ?
- (1) Euglenoids
  - (2) Dinoflagellates
  - (3) Slime moulds
  - (4) Chrysophytes
87. Choose the wrong statement :
- (1) *Neurospora* is used in the study of biochemical genetics
  - (2) Morels and truffles are poisonous mushrooms
  - (3) Yeast is unicellular and useful in fermentation
  - (4) *Penicillium* is multicellular and produces antibiotics
88. In human females, meiosis-II is not completed until ?
- (1) fertilization
  - (2) uterine implantation
  - (3) birth
  - (4) puberty
83. निम्नलिखित में से कौन एक पर्यावरण में  $SO_2$  प्रदूषण का सबसे योग्य संकेतक है ?
- (1) शंकुधारी
  - (2) शैवाल
  - (3) कवक
  - (4) लाइकेन
84. किसी रोगी में प्रत्यारोपित वृक्क (किडनी) को अस्वीकार कि कारण किया जा सकता है ?
- (1) कोशिका-माध्यित प्रतिरक्षा अनुक्रिया
  - (2) निष्क्रिय प्रतिरक्षा अनुक्रिया
  - (3) सहज प्रतिरक्षा अनुक्रिया
  - (4) त्रिदोशज (ह्यूमोरल) प्रतिरक्षा अनुक्रिया
85. शरीर में कोशिकाओं का जाल होना, खाद्य पदार्थ का निर्यात करने वाली कशाभिकासय कोशिकाओं से अस्तित्व आंतरि गुहाओं का पाया जाना, तथा अप्रत्यक्ष परिवर्धन का होना कि फाइलम की विशिष्टताएँ हैं ?
- (1) पॉरिफेरा ✗
  - (2) मॉलस्का ✗
  - (3) प्रोटोज़ोआ ✗
  - (4) सीलेन्टेरेटा
86. जीवों के किस समूह में कोशिका भित्ति दो पतली अतिव्य कवचों की बनी होती है जो एकसाथ आसंजित होती है ?
- (1) यूग्लीनाइड
  - (2) डायनोफ्लैजिलेट ✓
  - (3) अवपंक कवक
  - (4) क्राइसोफाइट
87. गलत कथन को चुनिए :
- (1) *न्यूरोस्पोर* को जैवसायन अनुवांशिकी के अध्ययन में उपयोग किया जाता है।
  - (2) मॉरिल और ट्रफेल विषैले छत्रक हैं।
  - (3) यीस्ट एककोशिकीय है और किण्वन में उपयोगी है
  - (4) *पैन्सिलियम* बहुकोशिकीय है और प्रतिजैविक उत्प करता है।
88. मानव मादाओं में, अर्धसूत्रीविभाजन-II किसके पूर्ण हो जा ही होता है ?
- (1) निषेचन ✓
  - (2) गर्भाशय में अतःस्थापन
  - (3) जन्म
  - (4) यौवनारंभ



89. Eutrophication of water bodies leading to killing of fishes is mainly due to non-availability of :

- (1) light
- (2) essential minerals
- (3) oxygen
- (4) food

The enzyme that is not present in succus entericus is :

- (1) nucleases
- (2) nucleosidase
- (3) lipase
- (4) maltase

91. Reaction of phenol with chloroform in presence of dilute sodium hydroxide finally introduces which one of the following functional group ?

- (1)  $-\text{CH}_2\text{Cl}$
- (2)  $-\text{COOH}$
- (3)  $-\text{CHCl}_2$
- (4)  $-\text{CHO}$

92. If the equilibrium constant for  $\text{N}_2(\text{g}) + \text{O}_2(\text{g}) \rightleftharpoons 2\text{NO}(\text{g})$  is  $K$ , the equilibrium constant for  $\frac{1}{2}\text{N}_2(\text{g}) + \frac{1}{2}\text{O}_2(\text{g}) \rightleftharpoons \text{NO}(\text{g})$  will be :

- (1)  $K^{1/2}$
- (2)  $\frac{1}{2}K$
- (3)  $K$
- (4)  $K^2$

93. 20.0 g of a magnesium carbonate sample decomposes on heating to give carbon dioxide and 8.0 g magnesium oxide. What will be the percentage purity of magnesium carbonate in the sample ?

- (1) 75
- (2) 96
- (3) 60
- (4) 84

(At. Wt. : Mg = 24)

94. The number of water molecules is maximum in :

- (1) 18 molecules of water
- (2) 1.8 gram of water
- (3) 18 gram of water
- (4) 18 moles of water

89. जलीय निकायों का यूट्रोफिकेशन जिसके कारण मछलियाँ मरने लगती हैं, किसकी उपलब्धता न होने के कारण होता है ?

- (1) प्रकाश
- (2) आवश्यक खनिज
- (3) ऑक्सीजन
- (4) भोजन

वह एंजाइम जो सकस एंटेरिकस (आंत्र रस) में मौजूद नहीं होता ?

- (1) न्यूक्लियेज
- (2) न्यूक्लिऑसिडेज
- (3) लाइपेज
- (4) माल्टेज

91. फिनॉल की क्रिया क्लोरोफॉर्म के साथ तनु NaOH में करवाने पर निम्नलिखित में से अंततः कौन-सा क्रियात्मक समूह लगता है ?

- (1)  $-\text{CH}_2\text{Cl}$
- (2)  $-\text{COOH}$
- (3)  $-\text{CHCl}_2$
- (4)  $-\text{CHO}$

यदि  $\text{N}_2(\text{g}) + \text{O}_2(\text{g}) \rightleftharpoons 2\text{NO}(\text{g})$  का साम्यावस्था स्थिरांक  $K$  है, तब  $\frac{1}{2}\text{N}_2(\text{g}) + \frac{1}{2}\text{O}_2(\text{g}) \rightleftharpoons \text{NO}(\text{g})$  का साम्यावस्था स्थिरांक होगा

- (1)  $K^{1/2}$
- (2)  $\frac{1}{2}K$
- (3)  $K$
- (4)  $K^2$

93. 20.0 g मैग्नीशियम कार्बोनेट के नमूने को गर्म करने पर अपघटित होकर कार्बन डाई ऑक्साइड एवं 8.0 g मैग्नीशियम ऑक्साइड देता है। नमूने में मैग्नीशियम कार्बोनेट की शुद्धता का प्रतिशत क्या होगा ?


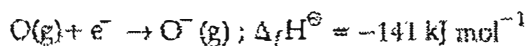
- (1) 75
- (2) 96
- (3) 60
- (4) 84

(घ. भार : Mg = 24)

94. जल अणुओं की अधिकतम संख्या है :

- (1) पानी के 18 अणुओं में
- (2) 1.8 ग्राम पानी में
- (3) 18 ग्राम पानी में
- (4) 18 मोल पानी में

95. The formation of the oxide ion,  $O^{2-}(g)$ , from oxygen atom requires first an exothermic and then an endothermic step as shown below :



Thus process of formation of  $O^{2-}$  in gas phase is unfavourable even though  $O^{2-}$  is isoelectronic with neon. It is due to the fact that,

electron repulsion outweighs the stability gained by achieving noble gas configuration.

- (1)  $O^-$  ion has comparatively smaller size than oxygen atom.
- (2) oxygen is more electronegative.
- (3) addition of electron in oxygen results in larger size of the ion.

96. What is the mole fraction of the solute in a 1.00 M aqueous solution ?

- (1) 0.177
- (2) 1.770
- (3) 0.0354
- (4) 0.177

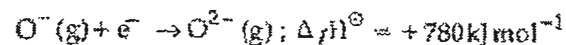
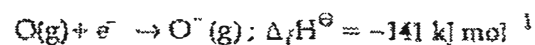
97. The rate constant of the reaction  $A \rightarrow B$  is  $0.6 \times 10^{-3}$  mole per second. If the concentration of A is 5 M, then concentration of B after 20 minutes is :

- (1) 1.08 M
- (2) 3.60 M
- (3) 0.36 M
- (4) 0.72 M

98. Decreasing order of stability of  $O_2$ ,  $O_2^-$ ,  $O_2^+$  and  $O_2^{2-}$  is :

- (1)  $O_2^+ > O_2 > O_2^- > O_2^{2-}$
- (2)  $O_2^{2-} > O_2^- > O_2 > O_2^+$
- (3)  $O_2 > O_2^+ > O_2^{2-} > O_2^-$
- (4)  $O_2^- > O_2^{2-} > O_2^+ > O_2$

95. ऑक्साइड आयन  $O^{2-}(g)$  का आक्सीजन परमाणु से बनने के लिये पहले ऊष्माक्षेपी एवं बाद में ऊष्माशोषी पद नीचे दिये गये हैं



गैसीय अवस्था में  $O^{2-}$  का बनना प्रतिकूल है यद्यपि  $O^{2-}$  निऑन का समइलेक्ट्रॉनी है। यह किस सत्य के कारण है ?

- (1) नोबल गैस के विन्यास प्राप्ति के कारण स्थायित्व से, इलेक्ट्रॉन प्रतिकर्षण प्रभावशाली होता है।
- (2)  $O^-$  आयन का आकार ऑक्सीजन परमाणु की तुलना में छोटा होता है।
- (3) ऑक्सीजन ज्यादा वैद्युत ऋणात्मक है।
- (4) ऑक्सीजन में इलेक्ट्रॉन के जोड़ से आयन का आकार बढ़ा होता है।

96. 1.00 M जलीय विलयन में विलेय की मोल अंश है :

- (1) 0.177
- (2) 1.770
- (3) 0.0354
- (4) 0.0177

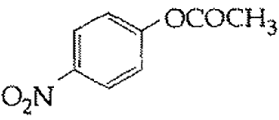
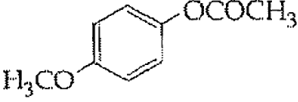
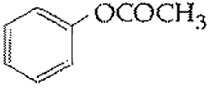
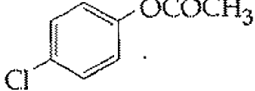
97. अभिक्रिया  $A \rightarrow B$  के लिए वेग स्थिरांक  $0.6 \times 10^{-3}$  मोल प्र सेकण्ड है। यदि A की सान्द्रता 5 M है तो 20 मिनट पर B की सान्द्रता है :

- (1) 1.08 M
- (2) 3.60 M
- (3) 0.36 M
- (4) 0.72 M

98.  $O_2$ ,  $O_2^-$ ,  $O_2^+$  तथा  $O_2^{2-}$  के स्थायित्व का बढ़ता हुआ है :

- (1)  $O_2^+ > O_2 > O_2^- > O_2^{2-}$
- (2)  $O_2^{2-} > O_2^- > O_2 > O_2^+$
- (3)  $O_2 > O_2^+ > O_2^{2-} > O_2^-$
- (4)  $O_2^- > O_2^{2-} > O_2^+ > O_2$

99. Which one of the following esters gets hydrolysed most easily under alkaline conditions ?

- (1) 
- (2) 
- (3) 
- (4) 

100. On heating which of the following releases CO<sub>2</sub> most easily ?

- (1) K<sub>2</sub>CO<sub>3</sub>  
 (2) Na<sub>2</sub>CO<sub>3</sub>  
 (3) MgCO<sub>3</sub>  
 (4) CaCO<sub>3</sub>

101. Which one of the following pairs of solution is not an acidic buffer ?

- (1) HClO<sub>4</sub> and NaClO<sub>4</sub>  
 (2) CH<sub>3</sub>COOH and CH<sub>3</sub>COONa  
 (3) H<sub>2</sub>CO<sub>3</sub> and Na<sub>2</sub>CO<sub>3</sub>  
 (4) H<sub>3</sub>PO<sub>4</sub> and Na<sub>3</sub>PO<sub>4</sub>

102. The sum of coordination number and oxidation number of the metal M in the complex [M(en)<sub>2</sub>(C<sub>2</sub>O<sub>4</sub>)]Cl (where en is ethylenediamine) is :

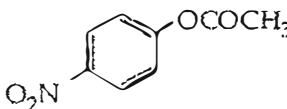
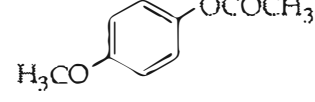
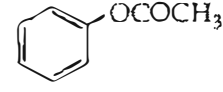
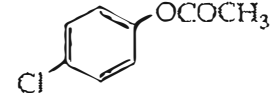
- (1) 9  
 (2) 6  
 (3) 7  
 (4) 8

103. Which of the statements given below is incorrect ?

- (1) Cl<sub>2</sub>O<sub>7</sub> is an anhydride of perchloric acid  
 (2) O<sub>3</sub> molecule is bent  
 (3) ONF is isoelectronic with O<sub>2</sub>N<sup>-</sup>  
 (4) OF<sub>2</sub> is an oxide of fluorine

99.

निम्नलिखित में से कौन सा एस्टर क्षारीय दशा में सबसे सरलता से जलअपघटित होता है ?

- (1) 
- (2) 
- (3) 
- (4) 

100. निम्न में से किसको गर्म करने पर CO<sub>2</sub> सर्वाधिक आसानी से उत्सर्जित होगी ?

- (1) K<sub>2</sub>CO<sub>3</sub>  
 (2) Na<sub>2</sub>CO<sub>3</sub>  
 (3) MgCO<sub>3</sub>  
 (4) CaCO<sub>3</sub>

101. निम्नलिखित विलयनों के युग्मों में से कौन-सा अम्लीय बफ़र नहीं है ?

- (1) HClO<sub>4</sub> एवं NaClO<sub>4</sub>  
 (2) CH<sub>3</sub>COOH एवं CH<sub>3</sub>COONa  
 (3) H<sub>2</sub>CO<sub>3</sub> एवं Na<sub>2</sub>CO<sub>3</sub>  
 (4) H<sub>3</sub>PO<sub>4</sub> एवं Na<sub>3</sub>PO<sub>4</sub>

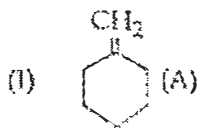
102. संकुल [M(en)<sub>2</sub>(C<sub>2</sub>O<sub>4</sub>)]Cl (जहाँ en ईथिलीनडाइऐमीन है) में धातु M की उपसहसंयोजन संख्या एवं ऑक्सीकरण संख्या का योग है

- (1) 9  
 (2) 6  
 (3) 7  
 (4) 8

103. नीचे दिये कथनों में से कौन-सा गलत है ?

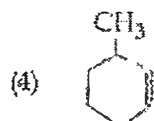
- (1) Cl<sub>2</sub>O<sub>7</sub> परक्लोरिक अम्ल का एनहाइड्राइड है।  
 (2) O<sub>3</sub> अणु मुड़ा हुआ है।  
 (3) ONF सुमइलेक्ट्रॉनी है, O<sub>2</sub>N<sup>-</sup> के साथ  
 (4) OF<sub>2</sub> फ्लोरीन का ऑक्साइड है।

104. In the reaction with HCl, an alkene reacts in accordance with the Markovnikov's rule, to give a product 1-chloro-1-methylcyclohexane. The possible alkene is:

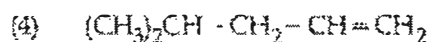

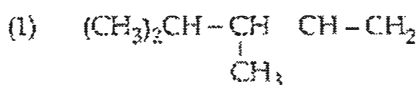


(2) (B)


(3) (A) and (B)



105. 2,3-Dimethyl-2-butene can be prepared by heating which of the following compounds with a strong acid?



106. The following reaction



is known by the name:

(1) Friedel-Craft's reaction

(2) Perkin's reaction

(3) Acetylation reaction

(4) Schotten-Baumann reaction

107. In the extraction of copper from its sulphide ore, the metal is finally obtained by the reduction of cuprous oxide with:

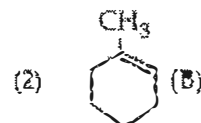
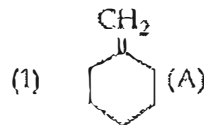
(1) iron(II) sulphide

(2) carbon monoxide

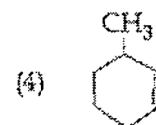
(3) copper(I) sulphide

(4) sulphur dioxide

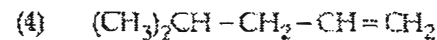
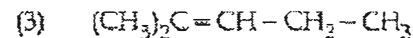
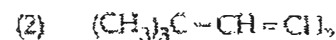
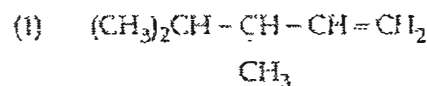
104. एक एल्कीन HCl से अभिक्रिया करके मार्कोवोफ नियम के अनुसार उत्पाद 1-क्लोरो-1-मेथिलसाइक्लोहेक्सेन देता है। संभावित एल्कीन है



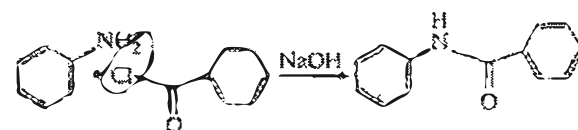
(3) (A) और (B)



105. निम्नलिखित में से किस यौगिक को प्रबल अम्ल के साथ गर्म करने पर 2,3-डाइमेथिल-2-ब्यूटीन को बनाया जा सकता है?



106. निम्न अभिक्रिया



किस नाम से जानी जाती है?

(1) फ्रीडेल-क्राफ्ट अभिक्रिया

(2) पार्किन अभिक्रिया

(3) ऐसीटाइलेशन (ऐसिलेशन) अभिक्रिया

(4) शॉटन-बामन अभिक्रिया

107. सल्फाइड अयस्क में से कॉपर के निष्कर्षण में धातु को प्राप्त करने के लिये अंततः क्यूप्रस ऑक्साइड का अपचयन किसके साथ होता है?

(1) आयरन (II) सल्फाइड

(2) कार्बन मोनोऑक्साइड

(3) कॉपर (I) सल्फाइड

(4) सल्फर डाईऑक्साइड

108. If Avogadro number  $N_A$  is changed from  $6.022 \times 10^{23} \text{ mol}^{-1}$  to  $6.022 \times 10^{20} \text{ mol}^{-1}$ , this would change

- (1) the definition of mass in units of grams.
- (2) the mass of one mole of carbon
- (3) the ratio of chemical species to each other in a balanced equation.
- (4) the ratio of elements to each other in a compound

109. The variation of the boiling points of the hydrogen halides is in the order  $\text{HF} > \text{HI} > \text{HBr} > \text{HCl}$ .

What explains the higher boiling point of hydrogen fluoride?

- (1) The electronegativity of fluorine is much higher than for other elements in the group.
- (2) There is strong hydrogen bonding between HF molecules.
- (3) The bond energy of HF molecules is greater than in other hydrogen halides
- (4) The effect of nuclear shielding is much reduced in fluorine which polarises the HF molecule.

110. Which of the following reaction(s) can be used for the preparation of alkyl halides?

- (I)  $\text{C}_2\text{H}_5\text{CH}_2\text{OH} + \text{HCl} \xrightarrow{\text{anh. ZnCl}_2}$
- (II)  $\text{CH}_3\text{CH}_2\text{OH} + \text{HCl} \longrightarrow$
- (III)  $(\text{CH}_3)_3\text{COH} + \text{HCl} \longrightarrow$
- (IV)  $(\text{CH}_3)_2\text{CHOH} + \text{HCl} \xrightarrow{\text{anh. ZnCl}_2}$

- (1) (I), (III) and (IV) only
- (2) (I) and (II) only
- (3) (IV) only
- (4) (III) and (IV) only

111. The name of complex ion,  $[\text{Fe}(\text{CN})_6]^{3-}$  is

- (1) Hexacyanoiron (III) ion
- (2) Hexacyanoferrate (III) ion
- (3) Tricyanoferrate (III) ion
- (4) Hexacyanidoferrate (III) ion

112. Assuming complete ionization, same moles of which of the following compounds will require the least amount of acidified  $\text{KMnO}_4$  for complete oxidation?

- (1)  $\text{FeSO}_4$
- (2)  $\text{FeSO}_3$
- (3)  $\text{FeC}_2\text{O}_4$
- (4)  $\text{Fe}(\text{NO}_2)_2$

यदि आवोगाद्रो संख्या  $N_A$ ,  $6.022 \times 10^{23} \text{ mol}^{-1}$  से परिवर्तित होकर  $6.022 \times 10^{20} \text{ mol}^{-1}$  होता है, तो इससे परिवर्तन होगा :

- (1) द्रव्यमान की परिभाषा घटने में।
- (2) एक मोल कार्बन का द्रव्यमान।
- (3) संतुलित समीकरण में परस्पर रासायनिक स्पीशीज का अनुपात।
- (4) यौगिक में परस्पर तत्वों का अनुपात।

हाइड्रोजन हैलाइडों के क्वथनांक में परिवर्तन का क्रम निम्न है।  
 $\text{HF} > \text{HI} > \text{HBr} > \text{HCl}$

हाइड्रोजन फ्लोराइड के उच्चतम क्वथनांक की व्याख्या क्या है?

- (1) फ्लोरिन की बहुत ऋणात्मकता संपूर्ण के दूसरे तत्वों से बहुत अधिक होती है।
- (2) HF अणुओं में हाइड्रोजन आबंध अधिक होता है।
- (3) HF अणु की आबंध ऊर्जा दूसरे हाइड्रोजन हैलाइडों से अधिक है।
- (4) फ्लोरिन में नाभिकीय परिरक्षण प्रभाव बहुत कम होता है जो कि HF अणु ध्रुवित करता है।

110. निम्नलिखित में से कौन सी अभिक्रिया/अभिक्रियाएँ रेल्किंग हैलाइड के निर्माण में उपयोग में जा सकती हैं?

- (I)  $\text{CH}_3\text{CH}_2\text{OH} + \text{HCl} \xrightarrow{\text{निर्जल ZnCl}_2}$
- (II)  $\text{CH}_3\text{CH}_2\text{OH} + \text{HCl} \longrightarrow$
- (III)  $(\text{CH}_3)_3\text{COH} + \text{HCl} \longrightarrow$
- (IV)  $(\text{CH}_3)_2\text{CHOH} + \text{HCl} \xrightarrow{\text{निर्जल ZnCl}_2}$

- (1) केवल (I), (III) और (IV)
- (2) केवल (I) और (II)
- (3) केवल (IV)
- (4) केवल (III) और (IV)

111. संकुल आयन  $[\text{Fe}(\text{CN})_6]^{3-}$  का नाम है :

- (1) हेक्सासायनोआयरन (III) आयन
- (2) हेक्साइनिटोफेरेट (III) आयन
- (3) हेक्सासायनोफेरेट (III) आयन
- (4) हेक्सासायनाइडोफेरेट (III) आयन

112. पूर्ण आयनीकरण को मानते हुए, निम्नलिखित में से कौन-से यौगिक के पूर्ण ऑक्सीकरण में सबसे कम मात्रा में अम्लीय  $\text{KMnO}_4$  की आवश्यकता होगी?

- (1)  $\text{FeSO}_4$
- (2)  $\text{FeSO}_3$
- (3)  $\text{FeC}_2\text{O}_4$
- (4)  $\text{Fe}(\text{NO}_2)_2$

**D**

113. In which of the following pairs, both the species are not isostructural ?
- (1)  $\text{SiCl}_4, \text{PCl}_4^+$
  - (2) diamond, silicon carbide
  - (3)  $\text{NH}_3, \text{PH}_3$
  - (4)  $\text{XeF}_4, \text{XeO}_4$

Caprolactam is used for the manufacture of :

- (1) Nylon - 6
- (2) Teflon
- (3) Terylene
- (4) Nylon - 6, 6

115. The hybridization involved in complex  $[\text{Ni}(\text{CN})_4]^{2-}$  is: (At. No. Ni = 28)

- (1)  $dsp^2$
- (2)  $sp^3$
- (3)  $d^2sp^2$
- (4)  $d^2sp^3$

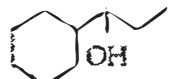
What is the mass of the precipitate formed when 50 mL of 16.9% solution of  $\text{AgNO}_3$  is mixed with 50 mL of 5.8%  $\text{NaCl}$  solution ?

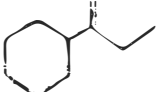
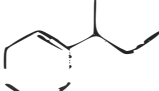
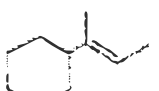
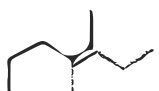
- (Ag = 107.8, N = 14, O = 16, Na = 23, Cl = 35.5)
- (1) 28 g
  - (2) 3.5 g
  - (3) 7 g
  - (4) 14 g

117. Gadolinium belongs to 4f series. It's atomic number is 64. Which of the following is the correct electronic configuration of gadolinium ?

- (1)  $[\text{Xe}] 4f^8 6d^2$
- (2)  $[\text{Xe}] 4f^9 5s^1$
- (3)  $[\text{Xe}] 4f^7 5d^1 6s^2$
- (4)  $[\text{Xe}] 4f^6 5d^2 6s^2$

118. Which of the following is not the product of

dehydration of  ?

- (1) 
- (2) 
- (3) 
- (4) 

113. निम्नलिखित युग्मों में से कौन सी दोनों स्पीशीज समसंरचनात्मक नहीं हैं?  $sp^3 d + 1LP$

- (1)  $\text{SiCl}_4, \text{PCl}_4^+$
- (2) हीरा, सिलिकॉन कार्बाइड
- (3)  $\text{NH}_3, \text{PH}_3$
- (4)  $\text{XeF}_4, \text{XeO}_4$

114. कैप्रोलैक्टम का उपयोग निम्न में से किसके उत्पादन में होता है ?

- (1) नाइलॉन - 6
- (2) टेफ्लॉन
- (3) टेरिलीन
- (4) नाइलॉन - 6, 6

115. संकुल  $[\text{Ni}(\text{CN})_4]^{2-}$  में संकरण है: (प. सं. Ni = 28)

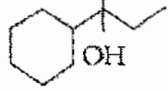
- (1)  $dsp^2$
- (2)  $sp^3$
- (3)  $d^2sp^2$
- (4)  $d^2sp^3$   $\frac{8}{2} = 4$

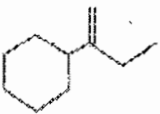
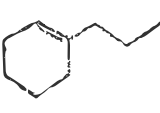
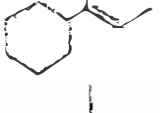

116. जब 50 mL, 16.9%  $\text{AgNO}_3$  के विलयन को 50 mL, 5.8%  $\text{NaCl}$  के विलयन के साथ मिश्रित किया जाता है तो बने वाले अवक्षेप का भार क्या है ?

- (Ag = 107.8, N = 14, O = 16, Na = 23, Cl = 35.5)
- (1) 28 g
  - (2) 3.5 g
  - (3) 7 g
  - (4) 14 g

117. गैडोलिनियम 4f श्रेणी से संबंधित है। इसकी परमाणु संख्या 64 है। निम्नलिखित में से गैडोलिनियम का कौनसा सही इलेक्ट्रॉनिक विन्यास है ?

- (1)  $[\text{Xe}] 4f^8 6d^2$
- (2)  $[\text{Xe}] 4f^9 5s^1$
- (3)  $[\text{Xe}] 4f^7 5d^1 6s^2$
- (4)  $[\text{Xe}] 4f^6 5d^2 6s^2$

118. निम्नलिखित में कौन-सा उत्पाद,  के निर्जलीकरण का नहीं है ?

- (1) 
- (2) 
- (3) 
- (4) 

119. A gas such as carbon monoxide would be most likely to obey the ideal gas law at :
- (1) high temperatures and low pressures
  - (2) low temperatures and high pressures.
  - (3) high temperatures and high pressures.
  - (4) low temperatures and low pressures.
120. The stability of +1 oxidation state among Al, Ga, In and Tl increases in the sequence :
- (1)  $Ga < In < Al < Tl$
  - (2)  $Al < Ga < In < Tl$
  - (3)  $Tl < In < Ga < Al$
  - (4)  $In < Tl < Ga < Al$
121. What is the pH of the resulting solution when equal volumes of 0.1 M NaOH and 0.01 M HCl are mixed ?
- (1) 12.65
  - (2) 2.0
  - (3) 7.0
  - (4) 1.04
- Strong reducing behaviour of  $H_3PO_2$  is due to :
- (1) Presence of one -OH group and two P-H bonds
  - (2) High electron gain enthalpy of phosphorus
  - (3) High oxidation state of phosphorus
  - (4) Presence of two -OH groups and one P-H bond
123. The number of structural isomers possible from the molecular formula  $C_3H_9N$  is :
- (1) 4
  - (2) 5
  - (3) 2
  - (4) 3
124. Which of the following statements is not correct for a nucleophile ?
- (1) Nucleophile is a Lewis acid
  - (2) Ammonia is a nucleophile
  - (3) Nucleophiles attack low  $e^-$  density sites
  - (4) Nucleophiles are not electron seeking
125. Number of possible isomers for the complex  $[Co(en)_2Cl_2]Cl$  will be: (en = ethylenediamine)
- (1) 2
  - (2) 1
  - (3) 3
  - (4) 4
119. एक गैस जैसे कार्बन मोनोक्साइड आदर्श गैस नियम का पालन सर्वाधिक किस दशा में करेगा ?
- (1) उच्च तापों एवं निम्न दाबों पर
  - (2) निम्न तापों एवं उच्च दाबों पर
  - (3) उच्च तापों एवं उच्च दाबों पर
  - (4) निम्न तापों एवं निम्न दाबों पर
120. +1 ऑक्सीकरण अवस्था का स्थायित्व Al, Ga, In एवं Tl में अनुक्रम में बढ़ता है :
- (1)  $Ga < In < Al < Tl$
  - (2)  $Al < Ga < In < Tl$
  - (3)  $Tl < In < Ga < Al$
  - (4)  $In < Tl < Ga < Al$
121. 0.1 M NaOH एवं 0.01 M HCl के समान आयतन को मिश्रित करने पर बनने वाले विलयन की pH क्या है ?
- (1) 12.65
  - (2) 2.0
  - (3) 7.0
  - (4) 1.04
122.  $H_3PO_2$  के प्रबल अपचायक गुण का कारण है :
- (1) एक -OH समूह एवं दो P-H आबंधों की उपस्थिति
  - (2) फॉस्फोरस की उच्च इलेक्ट्रॉन प्राप्ति ऐन्थैल्पी से
  - (3) फॉस्फोरस की उच्च ऑक्सीकरण अवस्था
  - (4) दो -OH समूहों एवं एक P-H आबंध की उपस्थिति
123. अणुसूत्र  $C_3H_9N$  से बनने वाले संभावित संरचनात्मक समावयवों की संख्या है :
- (1) 4
  - (2) 5
  - (3) 2
  - (4) 3
124. निम्नलिखित में से कौन-सा कथन नाभिकस्नेही के लिये सही नहीं है ?
- (1) नाभिकस्नेही हार्डर अम्ल है।
  - (2) अमोनिया एक नाभिकस्नेही है।
  - (3) नाभिकस्नेही कम इलेक्ट्रॉन घनत्व स्थान पर आक्रमण करता है।
  - (4) नाभिकस्नेही इलेक्ट्रॉन की तलाश में नहीं रहता है।
125. संकुल  $[Co(en)_2Cl_2]Cl$  के संभावित समावयवों की संख्या होगी : (en = ईथिलीनडाईऐमीन)
- (1) 2
  - (2) 1
  - (3) 3
  - (4) 4

126. Which is the correct order of increasing energy of the listed orbitals in the atom of titanium ?  
(At. no.  $Z = 22$ )
- 3s 4s 3p 3d
  - 4s 3s 3p 3d
  - 3s 3p 3d 4s
  - 3s 3p 4s 3d
127. In an  $S_N1$  reaction on chiral centres, there is:
- 100% racemization
  - inversion more than retention leading to partial racemization
  - 100% retention
  - 100% inversion
128. The vacant space in bcc lattice unit cell is:
- 26%
  - 48%
  - 23%
  - 32%
129. The heat of combustion of carbon to  $CO_2$  is  $-393.5 \text{ kJ/mol}$ . The heat released upon formation of 35.2 g of  $CO_2$  from carbon and oxygen gas is:
- 315 kJ
  - +315 kJ
  - 630 kJ
  - 3.15 kJ
130. Aqueous solution of which of the following compounds is the best conductor of electric current?
- Acetic acid,  $C_2H_4O_2$
  - Hydrochloric acid, HCl
  - Ammonia,  $NH_3$
  - Fructose,  $C_6H_{12}O_6$
131. The oxidation of benzene by  $V_2O_5$  in the presence of air produces:
- benzoic anhydride
  - maleic anhydride
  - benzoic acid
  - benzaldehyde
132. Reaction of a carbonyl compound with one of the following reagents involves nucleophilic addition followed by elimination of water. The reagent is:
- a Grignard reagent
  - hydrazine in presence of feebly acidic solution
  - hydrocyanic acid
  - sodium hydrogen sulphite
126. टाईटेनियम परमाणु के दिये गये कक्षकों की ऊर्जा का बढ़ता हुआ सही क्रम कौन सा है? (प. स.  $Z = 22$ )
- 3s 4s 3p 3d
  - 4s 3s 3p 3d
  - 3s 3p 3d 4s
  - 3s 3p 4s 3d
127. काइरल केन्द्र पर  $S_N1$  अभिक्रिया में होता है:
- 100% रेसिमिकरण
  - धारण से ज्यादा प्रतिलोमन के द्वारा आंशिक रेसिमिकरण
  - 100% धारण
  - 100% प्रतिलोमन
128. bcc जालक एकक कोष्ठिका में रिक्त स्थान होता है:
- 26
  - 48
  - 23%
  - 32%
129. कार्बन से कार्बन डाईऑक्साइड के लिये दहन ऊष्मा  $-393.5 \text{ kJ/mol}$  है। कार्बन एवं ऑक्सीजन से 35.2 g  $CO_2$  बनने पर उत्सर्जित ऊष्मा है
- 315 kJ
  - +315 kJ
  - 630 kJ
  - 3.15 kJ
130. निम्न यौगिकों में से किसका जलायक विलयन विद्युत धारा का सबसे अच्छा सुचालक है?
- ऐसीटिक अम्ल,  $C_2H_4O_2$
  - हाइड्रोक्लोरिक अम्ल, HCl
  - अमोनिया,  $NH_3$
  - फ्रक्टोस,  $C_6H_{12}O_6$
131. हवा की उपस्थिति में बेन्ज़ीन का ऑक्सीकरण  $V_2O_5$  के द्वारा देता है:
- बेन्ज़ोईक एनहाइड्राइड
  - मेलेईक एनहाइड्राइड
  - बेन्ज़ोईक अम्ल
  - बेन्ज़ेलिडहाइड
132. कार्बोनिल यौगिक की अभिक्रिया में निम्न में से कौन-सा अभिकर्मक नाभिकस्नेही योग के पश्चात् जल का विलोपन होता है। अभिकर्मक है:
- ग्रिगनार्ड अभिकर्मक
  - अम्लीय विलयन में हाइड्राजिन
  - हाइड्रोसायनिक अम्ल
  - सोडियम हाइड्रोजन सल्फाइड

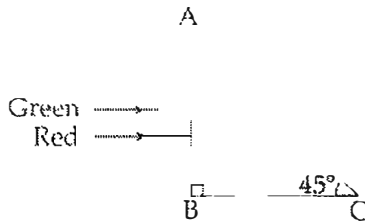


133. Method by which Aniline cannot be prepared is
- (1) hydrolysis of phenylisocyanide with acidic solution.
  - (2) degradation of benzamide with bromine in alkaline solution
  - (3) reduction of nitrobenzene with  $H_2/Pd$  in ethanol.
  - (4) potassium salt of phthalimide treated with chlorobenzene followed by hydrolysis with aqueous NaOH solution.
134. Two possible stereo-structures of  $CH_3CHOH.COOH$ , which are optically active, are called :
- (1) Diastereomers
  - (2) Atropisomers
  - (3) Enantiomers
  - (4) Mesomers
135. The correct statement regarding defects in crystalline solids is
- (1) Schottky defects have no effect on the density of crystalline solids.
  - (2) Frenkel defects decrease the density of crystalline solids.
  - (3) Frenkel defect is a dislocation defect.
  - (4) Frenkel defect is found in halides of alkaline
136. The position vector of a particle  $\vec{R}$  as a function of time is given by .  

$$\vec{R} = 4 \sin(2\pi t) \hat{i} + 4 \cos(2\pi t) \hat{j}$$
 Where R is in meters, t is in seconds and  $\hat{i}$  and  $\hat{j}$  denote unit vectors along x-and y-directions, respectively. Which one of the following statements is wrong for the motion of particle ?
- (1) Magnitude of acceleration vector is  $\frac{v^2}{R}$ , where v is the velocity of particle.
  - (2) Magnitude of the velocity of particle is 8 meter/second
  - (3) Path of the particle is a circle of radius 4 meter.
  - (4) Acceleration vector is along  $-\vec{R}$  .
137. The energy of the em waves is of the order of 15 keV. To which part of the spectrum does it belong ?
- (1) Infra - red rays
  - (2) Ultraviolet rays
  - (3)  $\gamma$  - rays
  - (4) X - rays
133. किस विधि से ऐनीलिन का नहीं बनाया जा सकता है ?
- (1) फेनिल आइसोसायनाइड का अम्लीय विलयन में जल अपघटन द्वारा।
  - (2) क्षारीय विलयन में बेन्जामाइड का निम्नीकरण ब्रोमीन साथ।
  - (3) ऐथेनॉल में नाइट्रोबेन्जीन का अपचयन  $H_2/Pd$  के साथ।
  - (4) थैलेमाइड के पोटेशियम लवण को क्लोरोबेन्जीन के साथ क्रिया करके, तत्पश्चात् NaOH के जलीय विलयन में जल अपघटन द्वारा।
134.  $CH_3CHOH.COOH$  की दो संभावित त्रिविम संरचनाएँ जो कि ध्रुवण पूर्णक हैं, कहलाती हैं :
- (1) डायस्टिरियोमर
  - (2) एट्रोपआइसोमर
  - (3) प्रतिबिम्ब रूप
  - (4) मेसोमर
135. क्रिस्टलीय ठोसों में दोषों के सम्बन्ध में सही कथन है :
- (1) क्रिस्टलीय ठोसों के घनत्व पर शॉटकी दोषों का कोई प्रभाव नहीं होता है।
  - (2) फ्रेंकेल दोष क्रिस्टलीय ठोसों के घनत्व को कम कर देते हैं।
  - (3) फ्रेंकेल दोष एक स्थान भ्रंश दोष हैं।  
 धातु धातुओं के हैलाइडों में फ्रेंकेल दोष पाया जाता है।
136. समय के फलन के रूप में किसी कण का स्थिति सदिश  $\vec{R}$  दिया गया है  

$$\vec{R} = 4 \sin(2\pi t) \hat{i} + 4 \cos(2\pi t) \hat{j}$$
 जहाँ, 4 मीटर में तथा t सेकंड में है और  $\hat{i}$  तथा  $\hat{j}$  क्रमशः x-तथा y-दिशाओं के अनुदिश एकांक सदिश हैं। इस कण की गति के लिये निम्नांकित में से कौन सा कथन सही नहीं है ?
- (1) त्वरण-सदिश का परिमाण,  $\frac{v^2}{R}$  है, जहाँ, v कण का वेग है।
  - (2) कण के वेग का परिमाण 8 m/s है।
  - (3) कण का पथ 4 m त्रिज्या का वृत्त है।
  - (4) त्वरण-सदिश,  $-\vec{R}$  के अनुदिश है।
137. किसी विद्युत चुम्बकीय तरंग की ऊर्जा की कोटि 15 keV है। यह स्पैक्ट्रम के किस भाग का सदस्य है ?
- (1) अवरक्त किरणें
  - (2) पराबैंगनी किरणें
  - (3) गामा किरणें
  - (4) एक्स-किरणें

138. A beam of light consisting of red, green and blue colours is incident on a right angled prism. The refractive index of the material of the prism for the above red, green and blue wavelengths are 1.39, 1.44 and 1.47, respectively.



The prism will

- (1) separate all the three colours from one another
- (2) not separate the three colours at all
- (3) separate the red colour part from the green and blue colours
- (4) separate the blue colour part from the red and green colours

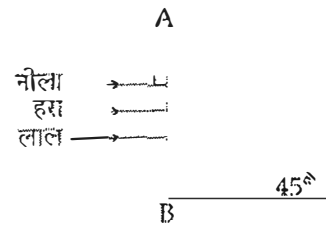
139. Two particles A and B, move with constant velocities  $\vec{v}_1$  and  $\vec{v}_2$ . At the initial moment their position vectors are  $\vec{r}_1$  and  $\vec{r}_2$  respectively. The condition for particles A and B for their collision is

- (1)  $\vec{r}_1 \cdot \vec{v}_1 = \vec{r}_2$
- (2)  $\vec{r}_1 \times \vec{v}_1 = \vec{r}_2 \times \vec{v}_2$
- (3)  $\vec{r}_1 - \vec{r}_2 = \vec{v}_1 - \vec{v}_2$
- (4)  $\frac{\vec{r}_1 - \vec{r}_2}{|\vec{r}_1 - \vec{r}_2|} = \frac{\vec{v}_2 - \vec{v}_1}{|\vec{v}_2 - \vec{v}_1|}$

140. At the first minimum adjacent to the central maximum of a single-slit diffraction pattern, the phase difference between the Huygen's wavelet from the edge of the slit and the wavelet from the midpoint of the slit is :

- (1)  $\frac{\pi}{2}$  radian
- (2)  $\pi$  radian
- (3)  $\frac{\pi}{8}$  radian
- (4)  $\frac{\pi}{4}$  radian

138. एक प्रकाश किरणपुंज, लाल, हरे तथा नीले रंगों से बना है। यह किरणपुंज किसी समकोणी प्रिज्म पर आपतित होता है (आरेख देखिये)। प्रिज्म के पदार्थ का अपवर्तनांक, लाल, हरे व नीले रंग के लिये क्रमशः 1.39, 1.44 तथा 1.47 हैं। तो,



यह प्रिज्म :

- (1) किरणपुंज के तीनों रंगों को एक दूसरे से पृथक कर देगा।
- (2) तीनों रंगों को बिल्कुल भी पृथक नहीं करेगा।
- (3) किरणपुंज के लाल रंग भाग को अन्य रंगों से पृथक कर देगा।
- (4) किरणपुंज के नीले रंग भाग को अन्य रंगों से पृथक कर देगा।

139. दो कण A तथा B स्थिर वेग क्रमशः  $\vec{v}_1$  तथा  $\vec{v}_2$  से गति कर रहे हैं। प्रारंभिक क्षण में उनके स्थिति सदिश क्रमशः  $\vec{r}_1$  तथा  $\vec{r}_2$  हैं; तो, A तथा B के संघट्ट होने के लिये प्रतिबंध है कि :

- (1)  $\vec{r}_1 \cdot \vec{v}_1 = \vec{r}_2 \cdot \vec{v}_2$
- (2)  $\vec{r}_1 \times \vec{v}_1 = \vec{r}_2 \times \vec{v}_2$
- (3)  $\vec{r}_1 - \vec{r}_2 = \vec{v}_1 - \vec{v}_2$
- (4)  $\frac{\vec{r}_1 - \vec{r}_2}{|\vec{r}_1 - \vec{r}_2|} = \frac{\vec{v}_2 - \vec{v}_1}{|\vec{v}_2 - \vec{v}_1|}$

140. एकल झिरी विवर्तन पैटर्न में, केन्द्रीय उच्चिष्ठ के निकटवर्ती प्रथम निम्निष्ठ पर, झिरी के किनारे तथा उसके मध्य बिन्दु से उत्पन्न हाइगेन्स-तरंगिकाओं के बीच पथान्तर होता है :

- (1)  $\frac{\pi}{2}$  रेडियन
- (2)  $\pi$  रेडियन
- (3)  $\frac{\pi}{8}$  रेडियन
- (4)  $\frac{\pi}{4}$  रेडियन

141. A proton and an alpha particle both enter a region of uniform magnetic field  $B$ , moving at right angles to the field  $B$ . If the radius of circular orbits for both the particles is equal and the kinetic energy acquired by proton is  $1 \text{ MeV}$ , the energy acquired by the alpha particle will be :
- (1)  $0.5 \text{ MeV}$   
 (2)  $1.5 \text{ MeV}$   
 (3)  $1 \text{ MeV}$   
 (4)  $4 \text{ MeV}$
142. A circuit contains an ammeter, a battery of  $30 \text{ V}$  and a resistance  $40.8 \text{ ohm}$  all connected in series. If the ammeter has a coil of resistance  $480 \text{ ohm}$  and a shunt of  $20 \text{ ohm}$ , the reading in the ammeter will be :
- (1)  $0.25 \text{ A}$   
 (2)  $2 \text{ A}$   
 (3)  $1 \text{ A}$   
 (4)  $0.5 \text{ A}$
143. The value of coefficient of volume expansion of glycerin is  $5 \times 10^{-4} \text{ K}^{-1}$ . The fractional change in the density of glycerin for a rise of  $40^\circ\text{C}$  in its temperature, is
- (1)  $0.020$   
 (2)  $0.025$   
 (3)  $0.010$   
 (4)  $0.015$
144. An ideal gas is compressed to half its initial volume by means of several processes. Which of the process results in the maximum work done on the gas ?
- (1) Isobaric  
 (2) Isochoric  
 (3) Isothermal  
 (4) Adiabatic
145. A series R-C circuit is connected to an alternating voltage source. Consider two situations :
- (a) When capacitor is air filled.  
 (b) When capacitor is mica filled.
- Current through resistor is  $i$  and voltage across capacitor is  $V$  then :
- (1)  $V_a > V_b$   
 (2)  $i_a > i_b$   
 (3)  $V_a = V_b$   
 (4)  $V_a < V_b$
141. एक प्रोटॉन तथा एक ऐल्फा कण, किसी एक समान चुम्बकीय क्षेत्र  $B$  के प्रदेश में प्रवेश करते हैं। इनकी गति की दिशा क्षेत्र  $B$  के लम्बवत् है। यदि, दोनों कणों के लिये, वृत्ताकार कक्षाओं की क्रिया आपस में बराबर है और प्रोटॉन द्वारा अर्जित गतिज ऊर्जा  $1 \text{ MeV}$  है तो, ऐल्फा कण द्वारा अर्जित ऊर्जा होगी :
- (1)  $0.5 \text{ MeV}$   
 (2)  $1.5 \text{ MeV}$   
 (3)  $1 \text{ MeV}$   
 (4)  $4 \text{ MeV}$
142. किसी परिपथ में,  $30 \text{ V}$  की एक बैटरी,  $40.8$  ओम का एक प्रतिरोध तथा एक एमीटर, सभी श्रेणी क्रम में जुड़े हैं। यदि एमीटर की कुंडली का प्रतिरोध  $480 \Omega$  है और इससे जुड़े शंट का प्रतिरोध  $20 \Omega$  है तो, एमीटर का पाठ्यांक होगा
- (1)  $0.25 \text{ A}$   
 (2)  $2 \text{ A}$   
 (3)  $1 \text{ A}$   
 (4)  $0.5 \text{ A}$
143. ग्लिसरीन का आयतन प्रसार गुणांक  $5 \times 10^{-4} \text{ K}^{-1}$  है। तब ग्लिसरीन के तापक्रम में  $40^\circ\text{C}$  वृद्धि करने पर उसके घनत्व में आंशिक परिवर्तन होगा
- (1)  $0.020$   
 (2)  $0.025$   
 (3)  $0.010$   
 (4)  $0.015$
144. किसी आदर्श गैस को कई प्रक्रमों द्वारा, इसके प्रारंभिक आयतन के आधे आयतन तक संपीडित किया जाता है। किस प्रक्रम में गैस पर अधिकतम कार्य कराया होगा ?
- (1) समदाबी में  
 (2) समआयतनिक में  
 (3) समतापी में  
 (4) रुद्धोष्म में
145. एक श्रेणी R-C परिपथ किसी प्रत्यावर्ती वोल्टता के स्रोत से जुड़ा है। दो स्थितियों (a) तथा (b) पर विचार कीजिये :
- (a) जब, संधारित्र वायु संपूरित (भरा) है।  
 (b) जब, संधारित्र माइका संपूरित है।
- इस परिपथ में प्रतिरोधक से प्रवाहित विद्युत धारा  $i$  है तथा संधारित्र के सिरों के बीच विभवान्तर  $V$  है, तो
- (1)  $V_a > V_b$   
 (2)  $i_a > i_b$   
 (3)  $V_a = V_b$   
 (4)  $V_a < V_b$

146. Light of wavelength 500 nm is incident on a metal with work function 2.28 eV. The de Broglie wavelength of the emitted electron is :
- (1)  $< 2.8 \times 10^{-9}$  m
  - (2)  $\geq 2.8 \times 10^{-9}$  m
  - (3)  $\leq 2.8 \times 10^{-12}$  m
  - (4)  $< 2.8 \times 10^{-10}$  m

147. Two metal wires of identical dimensions are connected in series. If  $\sigma_1$  and  $\sigma_2$  are the conductivities of the metal wires respectively, the effective conductivity of the combination is.

- (1)  $\frac{\sigma_1 + \sigma_2}{2 \sigma_1 \sigma_2}$
- (2)  $\frac{\sigma_1 + \sigma_2}{\sigma_1 \sigma_2}$
- (3)  $\frac{\sigma_1 \sigma_2}{\sigma_1 + \sigma_2}$
- (4)  $\frac{2 \sigma_1 \sigma_2}{\sigma_1 + \sigma_2}$

148. An automobile moves on a road with a speed of  $54 \text{ km h}^{-1}$ . The radius of its wheels is 0.45 m and the moment of inertia of the wheel about its axis of rotation is  $3 \text{ kg m}^2$ . If the vehicle is brought to rest in 15 s, the magnitude of average torque transmitted by its brakes to the wheel is

- (1)  $8.58 \text{ kg m}^2 \text{ s}^{-2}$
- (2)  $10.86 \text{ kg m}^2 \text{ s}^{-2}$
- (3)  $2.86 \text{ kg m}^2 \text{ s}^{-2}$
- (4)  $6.66 \text{ kg m}^2 \text{ s}^{-2}$

149. A source of sound S emitting waves of frequency 100 Hz and an observer O are located at some distance from each other. The source is moving with a speed of  $19.4 \text{ ms}^{-1}$  at an angle of  $60^\circ$  with the source observer line as shown in the figure. The observer is at rest. The apparent frequency observed by the observer (velocity of sound in air  $330 \text{ ms}^{-1}$ ), is :

$v_s$



- (1) 103 Hz
- (2) 106 Hz
- (3) 97 Hz
- (4) 100 Hz

146. किसी धातु का कार्य फलन 2.28 eV है। इस पर 500 nm तरंगदैर्घ्य का प्रकाश आपतित होता है तो, उत्सर्जित इलेक्ट्रॉन की दे-ब्रॉग्ली तरंगदैर्घ्य होगी :

- (1)  $< 2.8 \times 10^{-9}$  m
- (2)  $\geq 2.8 \times 10^{-9}$  m
- (3)  $\leq 2.8 \times 10^{-12}$  m
- (4)  $< 2.8 \times 10^{-10}$  m

147. सर्वसम विस्तार ( माप ) के धातु के दो तार श्रेणी क्रम में जुड़े हैं। यदि इन तारों की चालकता क्रमशः  $\sigma_1$  तथा  $\sigma_2$  है तो, इनके इस संयोजन की चालकता होगी :

- (1)  $\frac{\sigma_1 + \sigma_2}{2 \sigma_1 \sigma_2}$
- (2)  $\frac{\sigma_1 + \sigma_2}{\sigma_1 \sigma_2}$
- (3)  $\frac{\sigma_1 \sigma_2}{\sigma_1 + \sigma_2}$
- (4)  $\frac{2 \sigma_1 \sigma_2}{\sigma_1 + \sigma_2}$

148. एक मोटर वाहन किसी सड़क पर  $54 \text{ km h}^{-1}$  की चाल से चल रहा है। इसके पहियों की त्रिज्या 0.45 m है और घूर्णन अक्ष के परितः पहिये का जड़त्व आघूर्ण  $3 \text{ kg m}^2$  है। यदि, ब्रेक लगाने के बाद, वाहन को रुकने में 15 s का समय लगता है तो, ब्रेक द्वारा पहिये पर लगा औसत बल आघूर्ण का मान

- (1)  $8.58 \text{ kg m}^2 \text{ s}^{-2}$
- (2)  $10.86 \text{ kg m}^2 \text{ s}^{-2}$
- (3)  $2.86 \text{ kg m}^2 \text{ s}^{-2}$
- (4)  $6.66 \text{ kg m}^2 \text{ s}^{-2}$

149. 100 Hz आवृत्ति की ध्वनि उत्पन्न करता हुआ एक ध्वनि स्रोत S, तथा एक प्रेक्षक O, एक दूसरे से कुछ दूरी पर स्थित हैं। यह ध्वनि स्रोत,  $19.4 \text{ ms}^{-1}$  की चाल से चल रहा है। उसके चलने की दिशा, स्रोत तथा प्रेक्षक की स्थितियों को मिलाने वाली सरलरेखा से  $60^\circ$  का कोण बनाती है ( आरेख देखिये )। यदि, प्रेक्षक अपनी स्थिति पर ही रुका रहता है तो, प्रेक्षक द्वारा सुनी गई ध्वनि की आभासी आवृत्ति ( हवा में ध्वनि का वेग  $330 \text{ ms}^{-1}$  ) होगी -

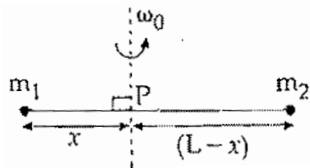


- (1) 103 Hz
- (2) 106 Hz
- (3) 97 Hz
- (4) 100 Hz

150. On a frictionless surface, a block of mass  $M$  moving at speed  $v$  collides elastically with another block of same mass  $M$  which is initially at rest. After collision the first block moves at an angle  $\theta$  to its initial direction and has a speed  $\frac{v}{3}$ . The second block's speed after the collision is :

- (1)  $\frac{v}{4}$
- (2)  $\frac{3}{\sqrt{2}}v$
- (3)  $\frac{\sqrt{3}}{2}v$
- (4)  $\frac{2\sqrt{2}}{3}v$

151. Point masses  $m_1$  and  $m_2$  are placed at the opposite ends of a rigid rod of length  $L$ , and negligible mass. The rod is to be set rotating about an axis perpendicular to it. The position of point  $P$  on this rod through which the axis should pass so that the work required to set the rod rotating with angular velocity  $\omega_0$  is minimum, is given by :

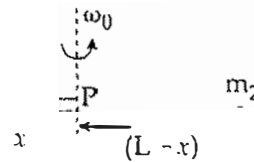


- (1)  $x = \frac{m_1}{m_2}L$
- (2)  $x = \frac{m_2}{m_1}L$
- (3)  $x = \frac{m_2L}{m_1 + m_2}$
- (4)  $x = \frac{m_1L}{m_1 + m_2}$

150. किसी घर्षणहीन पृष्ठ पर  $v$  चाल से चलता हुआ  $M$  द्रव्यमान का एक ब्लॉक, उसी द्रव्यमान  $M$  के विरामावस्था में स्थित एक अन्य ब्लॉक से टकराता है। टक्कर के पश्चात् पहला ब्लॉक,  $\frac{v}{3}$  चाल से, अपनी प्रारम्भिक गति की दिशा से  $\theta$  कोण पर चलने लगता है। तो, टक्कर के पश्चात् दूसरे ब्लॉक की चाल होगी :

- (1)  $\frac{3}{4}v$
- (2)  $\frac{3}{\sqrt{2}}v$
- (3)  $\frac{\sqrt{3}}{2}v$
- (4)  $\frac{2\sqrt{2}}{3}v$

151. किसी दृढ़ छड़ की लम्बाई  $L$  है और इसका द्रव्यमान नगण्य है। इसके दो विपरीत सिरों पर क्रमशः  $m_1$  तथा  $m_2$  द्रव्यमान के दो बिन्दु-पिंड रखे गये हैं। इस छड़ को उसके स्वयं के लम्बवत् अक्ष के परितः घूर्णन कराना है, जो छड़ पर स्थित किसी बिन्दु  $P$  से होकर गुजरती है (आरेख देखिये)। तो, बिन्दु  $P$  की वह स्थिति जिसके लिये छड़ को कोणीय वेग  $\omega_0$  से घूर्णन कराने के लिये आवश्यक कार्य न्यूनतम होगा, है :



- (1)  $x = \frac{m_1}{m_2}L$
- (2)  $x = \frac{m_2}{m_1}L$
- (3)  $x = \frac{m_2L}{m_1 + m_2}$
- (4)  $x = \frac{m_1L}{m_1 + m_2}$

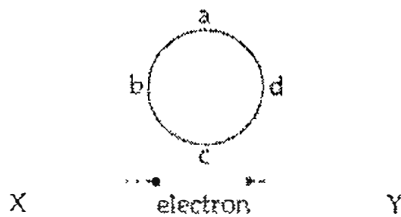
152. A ball is thrown vertically downwards from a height of 20 m with an initial velocity  $v_0$ . It collides with the ground, loses 50 percent of its energy in collision and rebounds to the same height. The initial velocity is (Take  $g = 10 \text{ ms}^{-2}$ )

- (1)  $20 \text{ ms}^{-1}$
- (2)  $28 \text{ ms}^{-1}$
- (3)  $10 \text{ ms}^{-1}$
- (4)  $14 \text{ ms}^{-1}$

153. A nucleus of uranium decays at rest into nuclei of thorium and helium. Then :

- (1) The helium nucleus has less momentum than the thorium nucleus.  
The helium nucleus has more momentum than the thorium nucleus.  
The helium nucleus has less kinetic energy than the thorium nucleus.
- (2) The helium nucleus has more kinetic energy than the thorium nucleus.

154. An electron moves on a straight line path XY as shown. The abcd is a coil adjacent to the path of electron. What will be the direction of current, if any, induced in the coil ?



- (1) adcb
- (2) The current will reverse its direction as the electron goes past the coil
- (3) No current induced
- (4) abcd

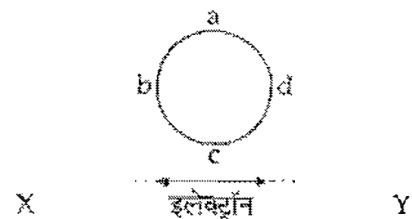
152. एक गोला 20 m की ऊँचाई से, प्रारंभिक वेग  $v_0$  द्वारा सीधे (ऊर्ध्वाधर) नीचे की ओर फेंका जाता है। यह गोला भू-तल से टकराता है, इस टक्कर में इसकी 50% ऊर्जा क्षयित हो जाती है। भू-तल से टकराने के बाद यह गोला उसी ऊँचाई तक उछल आता है। यदि  $g = 10 \text{ ms}^{-2}$  हैं तो, गोला का प्रारंभिक वेग है :

- (1)  $20 \text{ ms}^{-1}$
- (2)  $28 \text{ ms}^{-1}$
- (3)  $10 \text{ ms}^{-1}$
- (4)  $14 \text{ ms}^{-1}$

153. विरामावस्था में यूरेनियम का एक न. क. रेयम तथा हीलियम के नाभिकों में क्षयित होता है। तो :

- (1) हीलियम-नाभिक का संवेग, थोरियम-नाभिक से कम होता है।
- (2) हीलियम-नाभिक का संवेग, थोरियम-नाभिक से अधिक होता है।  
हीलियम-नाभिक की गतिज ऊर्जा, थोरियम-नाभिक से कम होती है।  
हीलियम-नाभिक की गतिज ऊर्जा, थोरियम-नाभिक से अधिक होती है।

154. एक इलेक्ट्रॉन, सरल रेखीय पथ, XY पर गतिमान है। एक कुंडली abcd इस इलेक्ट्रॉन के मार्ग के निकटवर्ती है (अरेख देखिये)। तो, इस कुंडली में प्रेरित धारा (यदि कोई हो तो) की दिशा क्या होगी ?



- (1) adcb दिशा में।
- (2) इलेक्ट्रॉन के कुंडली के पास से निकल जाने पर धारा की दिशा विपरीत हो जायेगी।
- (3) धारा प्रेरित नहीं होगी।
- (4) abcd दिशा में।

155. A particle is executing a simple harmonic motion. Its maximum acceleration is  $\alpha$  and maximum velocity is  $\beta$ . Then, its time period of vibration will be:

(1)  $\frac{\alpha}{\beta}$

(2)  $\frac{\beta^2}{\alpha}$

(3)  $\frac{2\pi\beta}{\alpha}$

(4)  $\frac{\beta^2}{\alpha^2}$

155. सरल आवर्त गति करते हुए किसी कण का अधिकतम त्वरण  $\alpha$  तथा अधिकतम वेग  $\beta$  है। तो, इसके कम्पन का आवर्तकाल होगा

(1)  $\frac{\alpha}{\beta}$

(2)  $\frac{\beta^2}{\alpha}$

(3)  $\frac{2\pi\beta}{\alpha}$

(4)  $\frac{\beta^2}{\alpha^2}$

156. Two slits in Young's experiment have widths in the ratio 1 : 25. The ratio of intensity at the maxima and minima in the interference pattern,  $\frac{I_{\max}}{I_{\min}}$  is:

(1)  $\frac{121}{49}$

(2)  $\frac{49}{121}$

(3)  $\frac{4}{9}$

(4)  $\frac{9}{4}$

156. यंग के किसी द्विझिरी प्रयोग में, दो झिरियों की चौड़ाइयों में अनुपात 1 : 25 है। तो, व्यतिकरण पैटर्न में उच्चिष्ठ तथा निम्निष्ठ की तीव्रताओं का अनुपात,  $\frac{I_{\max}}{I_{\min}}$  होगा :

(1)  $\frac{121}{49}$

(2)  $\frac{49}{121}$

(3)  $\frac{4}{9}$

(4)  $\frac{9}{4}$

157. If potential (in volts) in a region is expressed as

$V(x, y, z) = 6xy - y + 2yz$ , the electric field (in N/C) at point (1, 1, 0) is:

(1)  $-(6\hat{i} + 5\hat{j} + 2\hat{k})$

(2)  $-(2\hat{i} + 3\hat{j} + \hat{k})$

(3)  $-(6\hat{i} + 9\hat{j} + \hat{k})$

(4)  $-(3\hat{i} + 5\hat{j} + 3\hat{k})$

157. यदि किसी क्षेत्र में विभव (वोल्ट में) को,

$V(x, y, z) = 6xy - y + 2yz$ , से निर्दिष्ट किया जाय तो, बिन्दु (1, 1, 0) पर विद्युत क्षेत्र (N/C में) है :

(1)  $-(6\hat{i} + 5\hat{j} + 2\hat{k})$

(2)  $-(2\hat{i} + 3\hat{j} + \hat{k})$

(3)  $-(6\hat{i} + 9\hat{j} + \hat{k})$

(4)  $-(3\hat{i} + 5\hat{j} + 3\hat{k})$

158. A parallel plate air capacitor has capacity 'C', distance of separation between plates is 'd' and potential difference 'V' is applied between the plates. Force of attraction between the plates of the parallel plate air capacitor is :

- (1)  $\frac{CV^2}{2d}$
- (2)  $\frac{CV^2}{d}$
- (3)  $\frac{C^2V^2}{2d^2}$
- (4)  $\frac{C^2V^2}{2d}$

159. A plank with a box on it at one end is gradually raised about the other end. As the angle of inclination with the horizontal reaches  $30^\circ$ , the box starts to slip and slides 4.0 m down the plank in 4.0 s. The coefficients of static and kinetic friction between the box and the plank will be, respectively



- (1) 0.6 and 0.5
- (2) 0.5 and 0.6
- (3) 0.4 and 0.3
- (4) 0.6 and 0.6

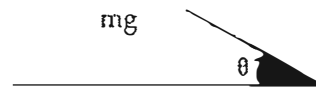
160. In the spectrum of hydrogen, the ratio of the longest wavelength in the Lyman series to the longest wavelength in the Balmer series is :

- (1)  $\frac{9}{4}$
- (2)  $\frac{27}{5}$
- (3)  $\frac{5}{27}$
- (4)  $\frac{4}{9}$

158. एक समान्तर प्लेट वायु संधारित्र की दो पट्टिकाओं के बीच की दूरी 'd' तथा इनके बीच विभवान्तर 'V' है। यदि इस संधारित्र की धारिता 'C' है तो, इसकी पट्टिकाओं के बीच आकर्षण बल होगा :

- (1)  $\frac{CV^2}{2d}$
- (2)  $\frac{CV^2}{d}$
- (3)  $\frac{C^2V^2}{2d^2}$
- (4)  $\frac{C^2V^2}{2d}$

159. किसी तख्ते के एक सिरे पर एक बक्सा रखा है। तख्ते के उस सिरे को धीरे-धीरे ऊपर की ओर उठाया जाता है। तख्ते के क्षैतिज से  $30^\circ$  कोण बनाने पर, बक्सा नीचे की ओर फिसलना प्रारंभ करता है और 4.0 s में 4.0 m दूरी तय कर लेता है। तो, बक्से तथा तख्ते के बीच स्थैतिक तथा गतिक घर्षण गुणांकों का क्रमशः मान होगा :



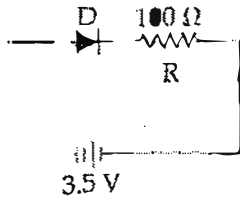
- (1) 0.6 तथा 0.5
- (2) 0.5 तथा 0.6
- (3) 0.4 तथा 0.3
- (4) 0.6 तथा 0.6

160. हाइड्रोजन के स्पेक्ट्रम में, लाइमन तथा बामर श्रेणियों की दीर्घतम तरंगदैर्घ्यों का अनुपात होता है :

- (1)  $\frac{9}{4}$
- (2)  $\frac{27}{5}$
- (3)  $\frac{5}{27}$
- (4)  $\frac{4}{9}$



161. In the given figure, a diode D is connected to an external resistance  $R = 100 \Omega$  and an e.m.f. of 3.5 V. If the barrier potential developed across the diode is 0.5 V, the current in the circuit will be :



- (1) 40 mA  
(2) 20 mA  
(3) 35 mA  
(4) 30 mA

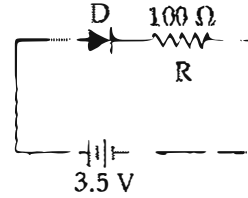
162. A satellite S is moving in an elliptical orbit around the earth. The mass of the satellite is very small compared to the mass of the earth. Then,

- (1) the total mechanical energy of S varies periodically with time.  
the linear momentum of S remains constant in magnitude.  
(3) the acceleration of S is always directed towards the centre of the earth.  
(4) the angular momentum of S about the centre of the earth changes in direction, but its magnitude remains constant.

163. A force  $\vec{F} = \alpha \hat{i} + 3 \hat{j} + 6 \hat{k}$  is acting at a point  $\vec{r} = 2 \hat{i} - 6 \hat{j} - 12 \hat{k}$ . The value of  $\alpha$  for which angular momentum about origin is conserved is :

- (1) 2  
(2) zero  
(3) 1  
(4) -1

161. यहाँ परिपथ में, एक डायोड D को एक बाह्य प्रतिरोध,  $R = 100 \Omega$  तथा 3.5 V ई.एम.एफ. की बैटरी से जोड़ा गया है। यदि डायोड में (दोनों क्षेत्रों की संधि के आरपार) उत्पन्न रोधिका विभव 0.5 V है तो, परिपथ में धारा होगी :



- (1) 40 mA  
(2) 20 mA  
(3) 35 mA  
(4) 30 mA

162. एक उपग्रह S, दीर्घवृत्तीय कक्षा में पृथ्वी की परिक्रमा कर रहा है। उपग्रह का द्रव्यमान, पृथ्वी के द्रव्यमान की तुलना में बहुत कम है। तो :

- (1) S की कुल यांत्रिक ऊर्जा का मान समय के साथ आवर्ती रूप में परिवर्तित होती रहती है।  
(2) S के रेखीय संवेग का परिमाण (मान) स्थिर रहता है।  
(3) S का त्वरण सदैव पृथ्वी के केन्द्र की ओर होगा।  
(4) पृथ्वी के केन्द्र के परितः, S के कोणीय संवेग को दिशा में परिवर्तन होता रहता है, किन्तु, इसका परिमाण समान रहता है।

163. किसी बिन्दु,  $\vec{r} = 2 \hat{i} - 6 \hat{j} - 12 \hat{k}$ , पर एक बल,  $\vec{F} = \alpha \hat{i} + 3 \hat{j} + 6 \hat{k}$  लग रहा है। तो, 'α' के किस मान के लिये मूल बिन्दु के परितः कोणीय संवेग संरक्षित रहेगा ?

- (1) 2  
(2) शून्य  
(3) 1  
(4) -1

164. A potentiometer wire of length  $L$  and a resistance  $r$  are connected in series with a battery of e.m.f.  $E_0$  and a resistance  $r_1$ . An unknown e.m.f.  $E$  is balanced at a length  $l$  of the potentiometer wire. The e.m.f.  $E$  will be given by :

(1)  $\frac{E_0 r}{(r + r_1)} \frac{L}{l}$

(2)  $\frac{E_0 l}{L}$

(3)  $\frac{L E_0 r}{(r + r_1) l}$

(4)  $\frac{L E_0 r}{l r_1}$

165. 4.0 g of a gas occupies 22.4 litres at NTP. The specific heat capacity of the gas at constant volume is  $5.0 \text{ JK}^{-1} \text{ mol}^{-1}$ . If the speed of sound in this gas at NTP is  $952 \text{ ms}^{-1}$ , then the heat capacity at constant pressure is

(Take gas constant  $R = 8.3 \text{ JK}^{-1} \text{ mol}^{-1}$ )

(1)  $7.5 \text{ JK}^{-1} \text{ mol}^{-1}$

(2)  $7.0 \text{ JK}^{-1} \text{ mol}^{-1}$

(3)  $8.5 \text{ JK}^{-1} \text{ mol}^{-1}$

(4)  $8.0 \text{ JK}^{-1} \text{ mol}^{-1}$

166. Two stones of masses  $m$  and  $2m$  are whirled in horizontal circles, the heavier one in a radius  $\frac{r}{2}$  and the lighter one in radius  $r$ . The tangential speed of lighter stone is  $n$  times that of the value of heavier stone when they experience same centripetal forces. The value of  $n$  is :

(1) 3

(2) 4

(3) 1

(4) 2

167. A remote - sensing satellite of earth revolves in a circular orbit at a height of  $0.25 \times 10^6 \text{ m}$  above the surface of earth. If earth's radius is  $6.38 \times 10^6 \text{ m}$  and  $g = 9.8 \text{ ms}^{-2}$ , then the orbital speed of the satellite is :

(1)  $8.56 \text{ km s}^{-1}$

(2)  $9.13 \text{ km s}^{-1}$

(3)  $6.67 \text{ km s}^{-1}$

(4)  $7.76 \text{ km s}^{-1}$

164.  $L$  लम्बाई के एक विभवमापी तार तथा एक प्रतिरोध  $r$  को, श्रेणी क्रम में,  $E_0$  ई.एम.एफ. की एक बैटरी तथा प्रतिरोध  $r_1$  से जोड़ा गया है। इस विभवमापी की  $l$  लम्बाई पर, किसी अज्ञात ई.एम.एफ.  $E$  के लिये संतुलन बिन्दु प्राप्त होता है। तो,  $E$  का मान है :

(1)  $\frac{E_0 r}{(r + r_1)} L$

(2)  $\frac{E_0 l}{L}$

(3)  $\frac{L E_0 r}{(r + r_1) l}$

(4)  $\frac{L E_0 r}{l r_1}$

165. सामान्य-ताप तथा दाब पर, किसी गैस के 4.0 g द्रव्यमान का आयतन 22.4 लिटर है। स्थिर-आयतन पर इसकी विशिष्ट-ऊष्मा-धारिता  $5.0 \text{ JK}^{-1} \text{ mol}^{-1}$  है। यदि, इस गैस में, सामान्य-ताप व दाब पर, ध्वनि का वेग  $952 \text{ ms}^{-1}$  है तो, इस गैस की, स्थिर दाब पर विशिष्ट ऊष्मा धारिता है

( $R = 8.3 \text{ JK}^{-1} \text{ mol}^{-1}$ )

(1)  $7.5 \text{ JK}^{-1} \text{ mol}^{-1}$

(2)  $7.0 \text{ JK}^{-1} \text{ mol}^{-1}$

(3)  $8.5 \text{ JK}^{-1} \text{ mol}^{-1}$

(4)  $8.0 \text{ JK}^{-1} \text{ mol}^{-1}$

166. दो पत्थरों के द्रव्यमान  $m$  तथा  $2m$  हैं, भारी पत्थर को  $\frac{r}{2}$  त्रिज्या के तथा हल्के पत्थर को  $r$  त्रिज्या के वृत्ताकार क्षैतिज पथों में घुमाया जाता है। जब ये पत्थर एक समान अभिकेन्द्रीय बल अनुभव करते हैं तब हल्के पत्थर का रेखीय वेग भारी पत्थर के रेखीय वेग का  $n$  गुना है।  $n$  का मान है :

(1) 3

(2) 4

(3) 1

(4) 2

167. एक सुदूर-संवेदी उपग्रह, पृथ्वी के पृष्ठ से  $0.25 \times 10^6 \text{ m}$  ऊँचाई पर, वृत्ताकार कक्षा में पृथ्वी का चक्कर लगा रहा है। यदि, पृथ्वी की त्रिज्या  $6.38 \times 10^6 \text{ m}$  है और  $g = 9.8 \text{ ms}^{-2}$  है तो, उपग्रह की कक्षीय चाल होगी

(1)  $8.56 \text{ km s}^{-1}$

(2)  $9.13 \text{ km s}^{-1}$

(3)  $6.67 \text{ km s}^{-1}$

(4)  $7.76 \text{ km s}^{-1}$

168. A string is stretched between fixed points separated by 75.0 cm. It is observed to have resonant frequencies of 420 Hz and 315 Hz. There are no other resonant frequencies between these two. The lowest resonant frequency for this string is :

- (1) 205 Hz
- (2) 10.5 Hz
- (3) 105 Hz
- (4) 155 Hz

169. The coefficient of performance of a refrigerator is 5. If the temperature inside freezer is  $-20^{\circ}\text{C}$ , the temperature of the surroundings to which it rejects heat is :

- (1)  $41^{\circ}\text{C}$
- (2)  $11^{\circ}\text{C}$
- (3)  $21^{\circ}\text{C}$
- (4)  $31^{\circ}\text{C}$

170. Water rises to a height 'h' in capillary tube. If the length of capillary tube above the surface of water is made less than 'h', then

- (1) water rises upto the top of capillary tube and stays there without overflowing.
- (2) water rises upto a point a little below the top and stays there.
- (3) water does not rise at all.
- (4) water rises upto the tip of capillary tube and then starts overflowing like a fountain.

171. Two vessels separately contain two ideal gases A and B at the same temperature, the pressure of A being twice that of B. Under such conditions, the density of A is found to be 1.5 times the density of B. The ratio of molecular weight of A and B is :

- (1) 3
- (2) 2
- (3) 1
- (4) 2

168. एक डोरी दो स्थिर बिन्दुओं के बीच खिंची है। इन बिन्दुओं के बीच की दूरी 75.0 cm है। इस डोरी को दो अनुनाद-आवृत्तियाँ 420 Hz तथा 315 Hz हैं। इन दोनों के बीच में कोई अन्य अनुनाद-आवृत्ति नहीं है। तो, इस डोरी के लिये न्यूनतम अनुनाद-आवृत्ति है :

- (1) 205 Hz
- (2) 10.5 Hz
- (3) 105 Hz
- (4) 155 Hz

169. किसी प्रशीतक (रेफ्रिजरेटर) का निष्पादन गुणांक 5 है। यदि फ्रीजर (प्रशीतित्र) का भीतरी ताप  $-20^{\circ}\text{C}$  है तो प्रशीतक के बाहर चारों ओर जहाँ यह ताप बाहर फेंकता है का तापमान होगा

- (1)  $41^{\circ}\text{C}$
- (2)  $11^{\circ}\text{C}$
- (3)  $21^{\circ}\text{C}$
- (4)  $31^{\circ}\text{C}$

170. किसी केशिका में जल 'h' ऊँचाई तक चढ़ता है। यदि जल को

सतह से ऊपर केशिका की लम्बाई 'h' से कम हो तो ;

- (1) जल केशिका के ऊपरी सिरे तक चढ़ जाता है, वहाँ रुकता है बाहर नहीं बहता
- (2) जल केशिका के ऊपरी सिरे से कुछ नीचे तक चढ़ता है और वहाँ रुक जाता है
- (3) जल केशिका में नहीं चढ़ता।
- (4) जल केशिका के ऊपरी सिरे तक चढ़कर, फव्वारे के रूप में बाहर बहने लगता है।

171. एक समान तापमान पर दो पात्रों में से एक में आदर्श गैस A तथा दूसरे में आदर्श गैस B भरी हैं। गैस A का दाब, गैस B के दाब का दो गुना है। इन दशाओं के अन्तर्गत, गैस A का घनत्व, गैस B के घनत्व से 1.5 गुना पाया जाता है, तो, A तथा B के अणुभारों का अनुपात होगा :

- (1) 3
- (2) 2
- (3) 1
- (4)  $\frac{2}{3}$

172. The Young's modulus of steel is twice that of brass. Two wires of same length and of same area of cross section, one of steel and another of brass are suspended from the same roof. If we want the lower ends of the wires to be at the same level, then the weights added to the steel and brass wires must be in the ratio of

- (1) 2 : 1  
 (2) 4 : 1  
 (3) 1 : 1  
 (4) 1 : 2

173. The input signal given to a CE amplifier having a voltage gain of 150 is  $V_i = 2 \cos\left(15t + \frac{\pi}{3}\right)$ . The corresponding output signal will be :

- (1)  $75 \cos\left(15t + \frac{2\pi}{3}\right)$   
 (2)  $2 \cos\left(15t + \frac{5\pi}{6}\right)$   
 (3)  $300 \cos\left(15t + \frac{4\pi}{3}\right)$   
 (4)  $300 \cos\left(15t + \frac{\pi}{3}\right)$

174. In an astronomical telescope in normal adjustment a straight black line of length  $L$  is drawn on inside part of objective lens. The eye-piece forms a real image of this line. The length of this image is  $l$ . The magnification of the telescope is :

- (1)  $\frac{L}{l} - 1$   
 (2)  $\frac{L}{l} + 1$   
 (3)  $\frac{L}{l}$   
 (4)  $\frac{L}{l} + 1$

175. The heart of a man pumps 5 litres of blood through the arteries per minute at a pressure of 150 mm of mercury. If the density of mercury be  $13.6 \times 10^3 \text{ kg/m}^3$  and  $g = 10 \text{ m/s}^2$  then the power of heart in watt is

- (1) 2.35  
 (2) 3.0  
 (3) 3.50  
 (4) 1.70

172. स्टील का यंग प्रत्यास्थता गुणांक, पीतल से दो गुना है। एक ही लम्बाई तथा एक ही अनुप्रस्थ काट के दो तारों, एक स्टील का तथा एक पीतल का, को एक ही छत से लटकवाया जाता है। यदि, भार लटकाने पर, दोनों तारों के निचले सिरे एक ही तल पर हैं तो स्टील तथा पीतल के तारों से लटकाये भारों का अनुपात होना चाहिये

- (1) 2 : 1  
~~(2) 4 : 1~~  
 (3) 1 : 1  
 (4) 1 : 2

173. किसी CE (उभयनिष्ठ उत्सर्जक) प्रवर्धक की वोल्टता-लब्धि 150 है। इसका निवेश सिग्नल (संकेत),

$V_i = 2 \cos\left(15t + \frac{\pi}{3}\right)$  है, तो, संगत निर्गत सिग्नल होगा :

- (1)  $75 \cos\left(15t + \frac{2\pi}{3}\right)$   
 $2 \cos\left(15t + \frac{5\pi}{6}\right)$   
 (3)  $300 \cos\left(15t + \frac{4\pi}{3}\right)$   
 (4)  $300 \cos\left(15t + \frac{\pi}{3}\right)$

174. सामान्य समायोजन की स्थिति में, किसी खगोलीय दूरदर्शक के अभिदृश्यक लेंस के भीतरी भाग पर,  $L$  लम्बाई की एक काली सरल रेखा खींची गई है। नेत्रिका द्वारा सृष्ट रेखा का वास्तविक प्रतिबिम्ब बनाती है। इस प्रतिबिम्ब की लम्बाई  $l$  है तो, दूरदर्शक का आवर्धन है :

- (1)  $\frac{L}{l} - 1$   
 (2)  $\frac{L}{l} + 1$   
 (3)  $\frac{L}{l}$   
~~(4)  $\frac{L}{l} + 1$~~

175. किसी व्यक्ति का हृदय, धमनियों से 150 mm परत दब्य पर 5 लिटर रक्त प्रति मिनट पम्प करता है। यदि, परत का घनत्व  $13.6 \times 10^3 \text{ kg/m}^3$  तथा  $g = 10 \text{ m/s}^2$  हैं तो, हृदय की शक्ति वाट में है

- (1) 2.35  
 (2) 3.0  
 (3) 3.50  
 (4) 1.70

176. If dimensions of critical velocity  $v_c$  of a liquid flowing through a tube are expressed as  $[\eta^x \rho^y r^z]$ , where  $\eta$ ,  $\rho$  and  $r$  are the coefficient of viscosity of liquid, density of liquid and radius of the tube respectively, then the values of  $x$ ,  $y$  and  $z$  are given by:

- (1)  $-1, -1, 1$   
 (2)  $-1, -1, -1$   
 (3)  $1, 1, 1$   
 (4)  $1, -1, -1$

177. A photoelectric surface is illuminated successively by monochromatic light of wavelength  $\lambda$  and  $\frac{\lambda}{2}$ . If the maximum kinetic energy of the emitted photoelectrons in the second case is 3 times that in the first case, the work function of the surface of the material is:

( $h = \text{Planck's constant, } c = \text{speed of light}$ )

- (1)  $\frac{hc}{\lambda}$   
 (2)  $\frac{2hc}{\lambda}$   
 (3)  $\frac{hc}{3\lambda}$   
 (4)  $\frac{hc}{2\lambda}$

178. The cylindrical tube of a spray pump has radius  $R$ , one end of which has  $n$  fine holes, each of radius  $r$ . If the speed of the liquid in the tube is  $V$ , the speed of the ejection of the liquid through the holes is:

- (1)  $\frac{VR^2}{nr^2}$   
 (2)  $\frac{VR^2}{n^3r^2}$   
 (3)  $\frac{V^2R}{nr}$   
 (4)  $\frac{VR^2}{n^2r^2}$

176. किसी नलिका से बहने वाले द्रव के क्रान्तिक वेग,  $v_c$  की, विमाओं को,  $[\eta^x \rho^y r^z]$  से निर्दिष्ट किया जाता है, जहाँ  $\eta$ ,  $\rho$  तथा  $r$  क्रमशः द्रव का श्यानता गुणांक, द्रव का घनत्व तथा नलिका की त्रिज्या हैं। तो,  $x$ ,  $y$  तथा  $z$  का क्रमशः मान है :

- (1)  $-1, -1, 1$   
 (2)  $-1, -1, -1$   
 (3)  $1, 1, 1$   
 (4)  $1, -1, -1$

177. किसी प्रकारा वैद्युत पृष्ठ को, क्रमशः  $\lambda$  तथा  $\frac{\lambda}{2}$  तरंगदैर्घ्य के एकवर्णी प्रकाश से प्रदीप्त किया जाता है। यदि उत्सर्जित प्रकाश विद्युत इलेक्ट्रॉनों की अधिकतम गतिज ऊर्जा का मान दूसरी दशा में, पहली दशा से 3 गुना है तो, इस पृष्ठ के पदार्थ का कार्य फलन है : ( $h = \text{प्लांक स्थिरांक, } c = \text{प्रकाश का वेग}$ )

- (1)  $\frac{hc}{\lambda}$   
 (2)  $\frac{2hc}{\lambda}$   
~~(3)  $\frac{hc}{3\lambda}$~~   
 (4)  $\frac{hc}{2\lambda}$

178. किसी स्प्रे-पम्प की बेलनाकार नली की त्रिज्या  $R$  है। इस नली के सिरे पर  $n$  सूक्ष्म छिद्र हैं, जिनमें प्रत्येक की त्रिज्या  $r$  है। यदि, नली में द्रव की चाल  $V$  है तो, इन छिद्रों से बाहर निकलते हुए द्रव की चाल होगी :

- ~~(1)  $\frac{VR^2}{nr^2}$~~   
 (2)  $\frac{VR^2}{n^3r^2}$   
 (3)  $\frac{V^2R}{nr}$   
 (4)  $\frac{VR^2}{n^2r^2}$

179. If vectors  $\vec{A} = \cos\omega t \hat{i} + \sin\omega t \hat{j}$  and  $\vec{B} = \cos\frac{\omega t}{2} \hat{i} + \sin\frac{\omega t}{2} \hat{j}$  are functions of time, then the value of  $t$  at which they are orthogonal to each other is :

(1)  $t = \frac{\pi}{2\omega}$

(2)  $t = \frac{\pi}{\omega}$

(3)  $t = 0$

(4)  $t = \frac{\pi}{4\omega}$

180. A rectangular coil of length 0.12 m and width 0.1 m having 50 turns of wire is suspended vertically in a uniform magnetic field of strength 0.2 Weber/m<sup>2</sup>. The coil carries a current of 2 A. If the plane of the coil is inclined at an angle of 30° with the direction of the field, the torque required to keep the coil in stable equilibrium will be :

(1) 0.20 Nm

(2) 0.24 Nm

(3) 0.12 Nm

(4) 0.15 Nm

179. यदि सदिश  $\vec{A} = \cos\omega t \hat{i} + \sin\omega t \hat{j}$  तथा सदिश

$\vec{B} = \cos\frac{\omega t}{2} \hat{i} + \sin\frac{\omega t}{2} \hat{j}$  समय के फलन हैं, तो 't' का वह मान क्या होगा, जिस पर ये सदिश परस्पर लंबकोणिक होंगे ?

(1)  $t = \frac{\pi}{2\omega}$

(2)  $t = \frac{\pi}{\omega}$

(3)  $t = 0$

(4)  $t = \frac{\pi}{4\omega}$

180. एक 0.12 m लम्बी, 0.1 m चौड़ी कुंडली में तार के 50 फेरे हैं। इसको 0.2 Weber/m<sup>2</sup> के एकसमान चुम्बकीय क्षेत्र में ऊर्ध्वाधर लटकाया गया है। कुंडली में 2 A विद्युतधारा प्रवाहित हो रही है। यदि कुंडली, चुम्बकीय क्षेत्र से 30° कोण बनाती है तो, इसे रोके रखने के लिये आवश्यक बल आघूर्ण का मान होगा

(1) 0.20 Nm

(2) 0.24 Nm

(3) 0.12 Nm

(4) 0.15 Nm